

令和3年度
興南中学校
入学試験問題

前期

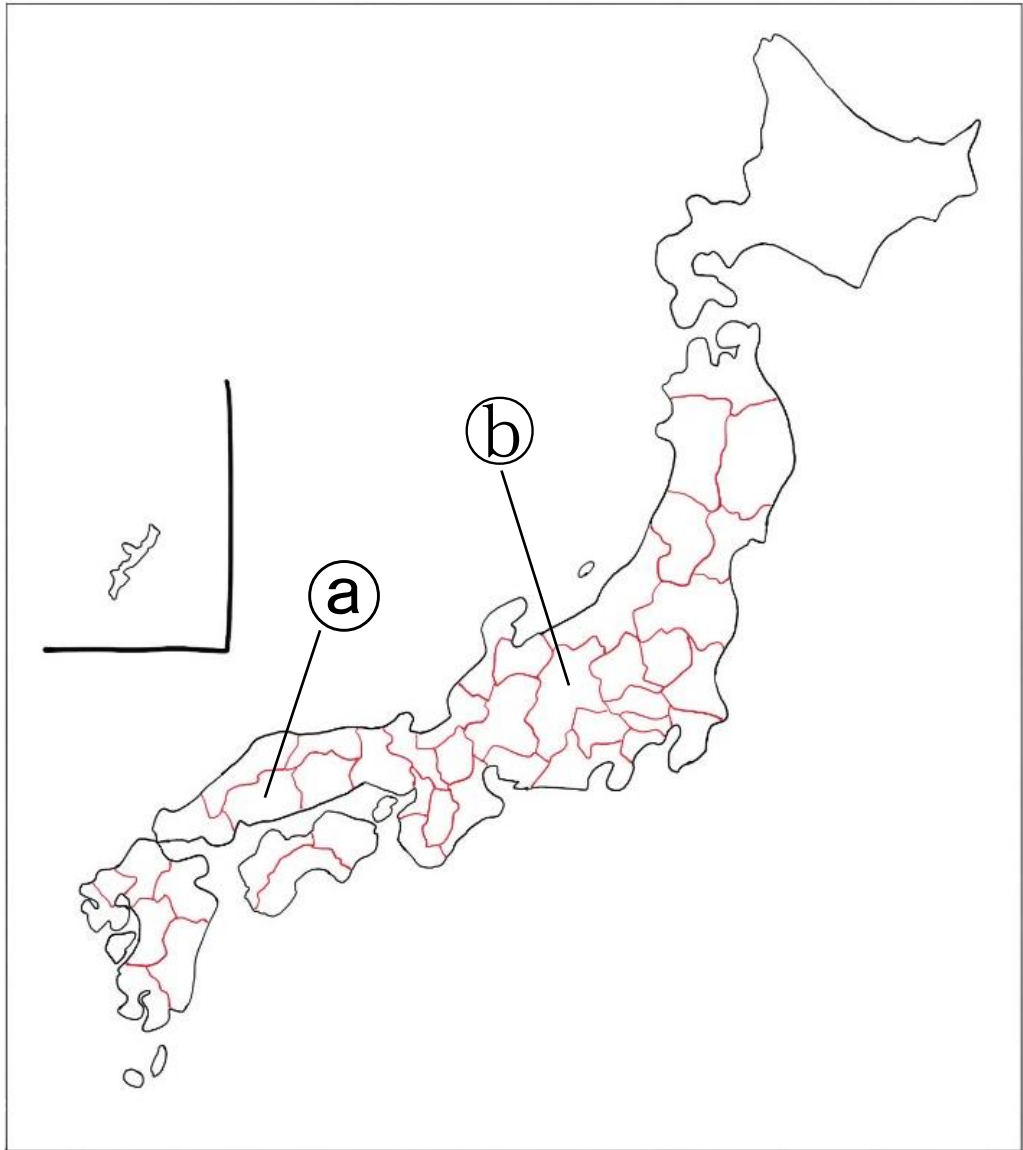
社会

令和3年1月9日(土)実施 45分/100点満点

受験上の注意

1. 試験開始の合図があるまで、この問題用紙は開かないようにして下さい。
解答用紙は別になっています。
2. 問題は 1 ~ 4 まで4題あります。
3. 試験時間は45分です。
4. 解答は解答用紙の所定のところに記入して下さい。
5. 解答用紙には、受験番号、小学校名、氏名を必ず記入して下さい。
6. 試験終了後、問題用紙は持ち帰って下さい。

- 1 次の日本地図はこうさんが夏休みの宿題に描いたものです。その日本地図と、3人の会話文を見て、あとの各問いに答えなさい。



こうさんが描いた日本地図

会話文

先生: 2人とも、社会科の宿題はやってきましたか。

こうさん: 都道府県をすべて覚えてくて日本地図を描いてきました。

南さん: 上手く描けているわ。難しかった？

こうさん: 日本はいくつかの島でできていて、そのバランスが難しかったよ。特に①近畿地方は入り組んでいて一番苦労したよ。

南さん: あら、そう？関東地方の【 X 】半島なんて難しいと思うけど。

こうさん: そうだね。でも僕は【 X 】半島の形をモチーフにしたゆるキャラが好きだから難しくはなかったかな。

先生: ゆるキャラといえは、10年間続いていた「ゆるキャラグランプリ」も今年で最後になるらしいよ。

こうさん: え！？「ゆるキャラグランプリ」は今年で最後ですか。可愛いゆるキャラがたくさんいて好きだったのに…。

先生: そうだね。だけどゆるキャラは可愛いだけではなく、地方の活性化に一役を買っていた部分もあったんだ。あの有名な②熊本県のゆるキャラ「くまモン」は2011年グランプリをとった後、2018年までに6000億円以上も経済効果をもたらしているんだよ。

南さん: そんなに影響があったグランプリが終わるのは残念ね。先生、最後はどこのゆるキャラが優勝したんですか。

先生: 最後に優勝したのは、③岩手県陸前高田市の「たかたのゆめちゃん」だよ。④東日本大震災で多くの被害がでた地域のゆるキャラが最後にグランプリをとったことは、被災地の復興にとっては良い影響があるんじゃないかな。

こうさん: そうですね。最近は新型コロナウイルスの影響で地方経済が大変な状況だけど、⑤政府も消費をうながすキャンペーンを行っているから、僕も東北に旅行に行きたいな。

南さん: ⑥ところで、こうさん。あなたが描いた日本地図、1か所間違っていない？

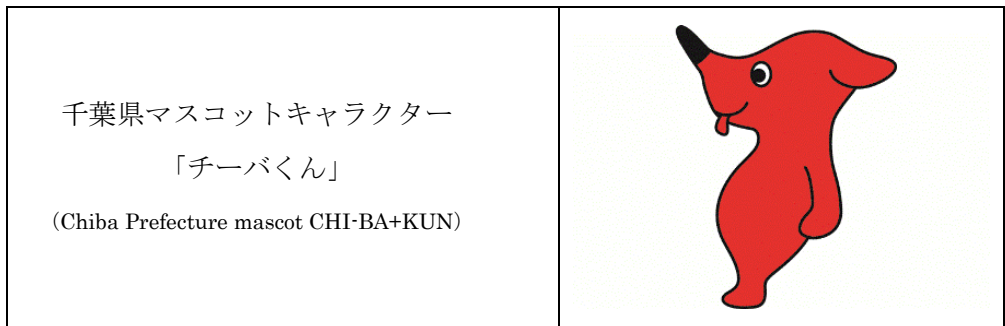
こうさん: ちゃんと地図を見ながら描いたのに…。

先生: 直して提出してくださいね。

(1) 下線部①に位置する都道府県として誤っているものを次の中から 1 つ選び，記号で答えなさい。

ア 京都府 イ 奈良県 ウ 和歌山県 エ 愛知県

(2) 次のゆるキャラ「チーバくん」は，会話文中【 X 】にあてはまる半島の形をモチーフにしている。【 X 】にあてはまる語句を答えなさい。



(千葉県ホームページより)

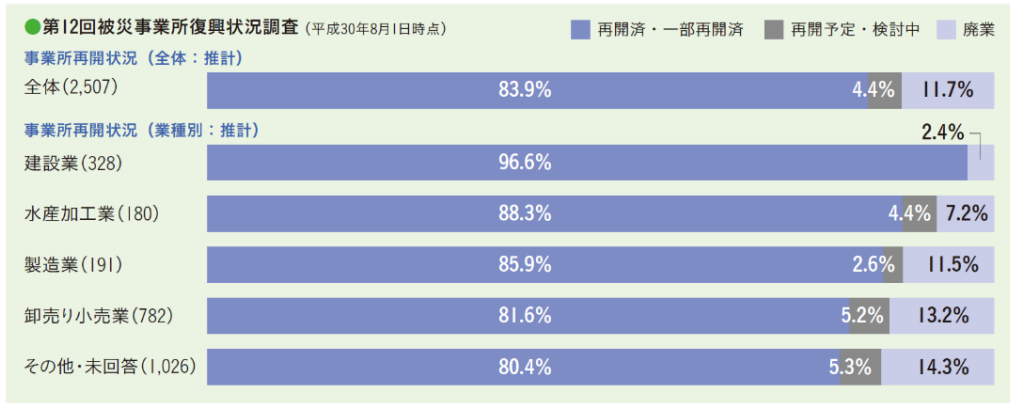
(3) 下線部②に位置し，世界最大規模のカルデラをとこなう活火山として正しいものを次の中から 1 つ選び，記号で答えなさい。

ア あそさん阿蘇山 イ さくらじまおんたけ桜島御岳 ウ きりしまやま霧島山 エ うんぜんだけ雲仙岳

(4) 下線部③や青森県，宮城県まで 3 県にまたがるリアス海岸は，入り江が入り組んでおり，津波の被害が大きくなりやすいという特徴があります。この海岸の名称を漢字で答えなさい。

(5) 下線部④に関連して，岩手県では震災の経験や教訓を確実に継承し，将来の災害の発生に備えることを目的に『東日本大震災津波からの復興—岩手からの提言—』を発行している。資料 1・資料 2 から読み取ることができる内容として最も適当なものを，あとのア～エから選び，記号で答えなさい。

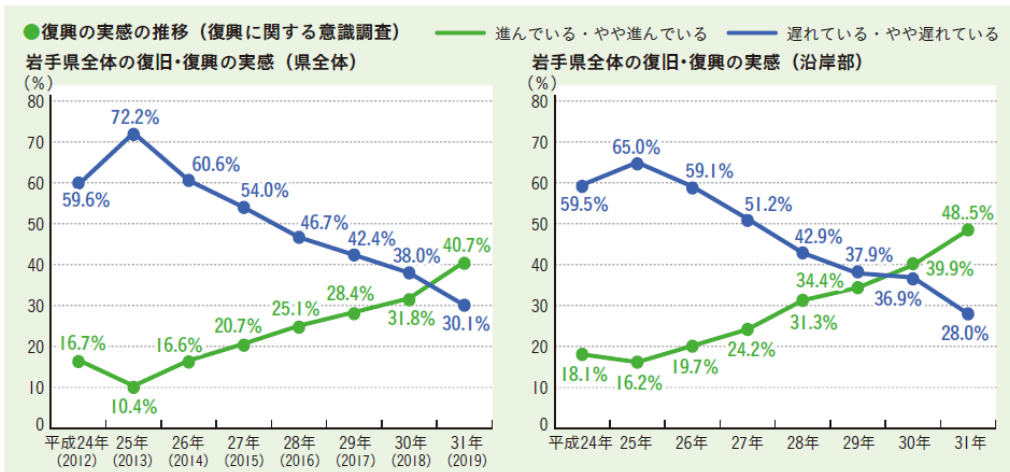
資料 1



※これまでの調査で回答のあった2,507事業所の再開状況を推計したものの。

(令和2年「東日本大震災津波からの復興」より)

資料 2



※「沿岸部」とは、洋野町、久慈市、野田村、普代村、田野畑村、岩泉町、宮古市、山田町、大槌町、釜石市、大船渡市、陸前高田市の太平洋に面している12市町村を指す。

(令和2年「東日本大震災津波からの復興」より)

- ア 資料1をみると再開済み、または一部再開済みの事業所が全体で8割を超え、最も再開している事業所の数が多いのは建設業である。
- イ 資料1をみると廃業の割合が最も高いのは、その他・未回答を除くと製造業である。
- ウ 資料2の岩手県全体への調査で、復興の実感が「進んでいる・やや進んでいる」という回答の割合が、復興が「遅れている・やや遅れている」という回答の割合を上回ったのは2019年が初めてである。
- エ 資料2の岩手県沿岸部に居住している人への調査で、復興が「遅れている・やや遅れている」と答えた人の割合が最も高かったのは2012年である。

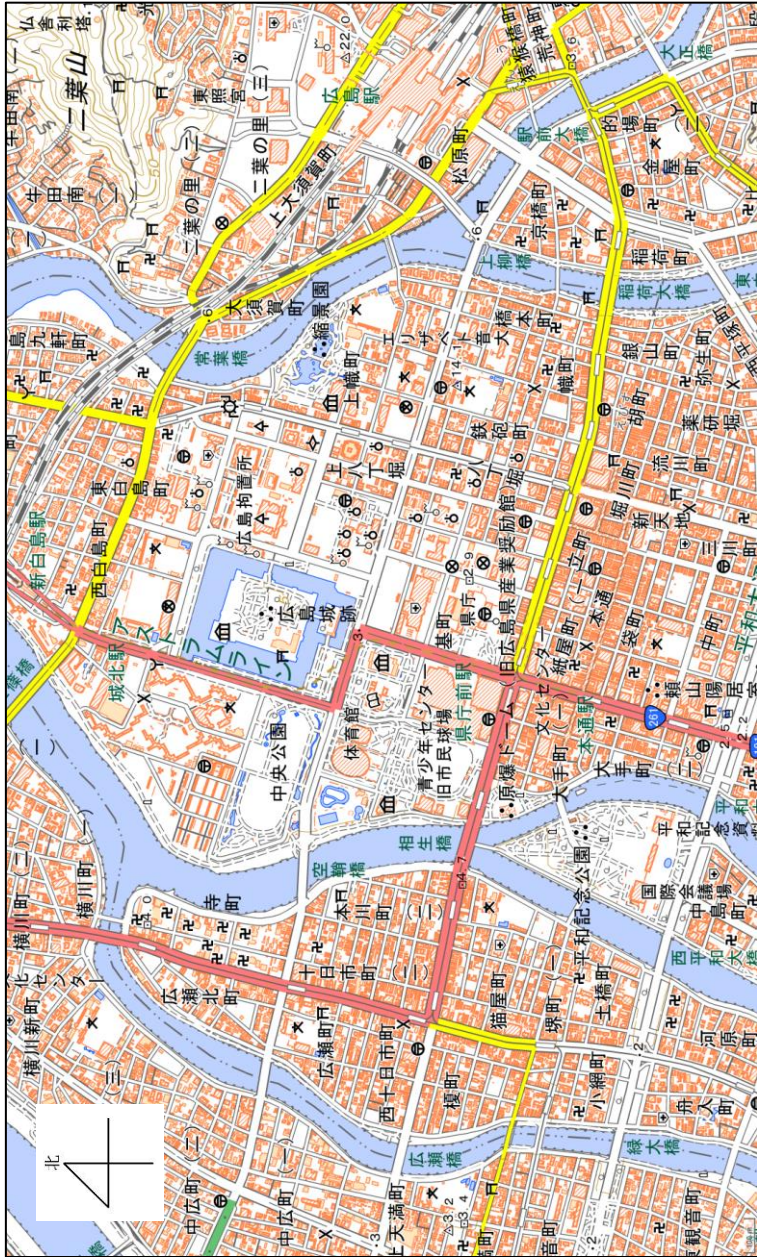
(6) 下線部⑤に関して、政府が行っている政策の名称を下記の【 Y 】にあてはまる形で答えなさい。

【 Y 】キャンペーンとは、新型コロナウイルスの影響で売上げが激減し、苦境に立たされている観光・運輸業やイベント・エンターテインメント業、飲食業などを支援するために、消費を喚起する政府の経済政策である。

(7) 次のページの地図 A は、こうさんが描いた日本地図（1 ページ）中④が示す都道府県の市街地の地図です。あとの地図 A の説明として誤っているものを次の中から 1 つ選び、記号で答えなさい。

- ア 広島城跡じょうあとの南側の区画には、博物館と図書館が立地している。
- イ 広島城跡の西側には、寺院が集まっている地区がある。
- ウ 広島駅の南側周辺には、警察署と郵便局が立地している。
- エ 原爆ドームの西側には、学校が立地している。

地図A



(8) こうさんが描いた日本地図中㊸が示す都道府県の収穫量しゅうかくりょうが全国上位の果実として正しいものを次の中から1つ選び、記号で答えなさい。

- ア いちご イ みかん ウ りんご エ キウイフルーツ

(9) 次の表は、那覇市の1945年、1963年、1998年、2020年の月別気温(表1)と月別降水量(表2)を記録したものです。これらの表について、こうさんと南さんが考察しています。その考察に対する先生の助言として適当でないものを、あとのア～エから1つ選び、記号で答えなさい。

考察の会話文

こうさん: この4つの年を比べて最も平均気温が高かったのは1998年8月だね。やっぱり気温が高いと雨もたくさん降るんじゃない? 2020年も11月までの年間平均気温が高いから降水量も多くなっているんじゃないかな。

南さん: 確かに1998年、2020年は年間を通して気温が高いわね。それと比べて1963年は2℃年間平均気温が低く、とても降水量が少ないわ。

こうさん: 本当だ。1998年、2020年の半分以下の降水量だね。この年の農作物は全然育たなかったんじゃないかな。

南さん: そうね。あと1945年は空白や×で示されているのは測定できていないということだと思うわ。戦争の影響じゃないかしら。気温や降水量を正確に計ることができなかったのでしょうか。

※表中の記号の説明

×…測定していない 空白…観測を行っていない]…資料不足)…途中

表1 単位℃

年	1月	2月	3月	4月	5月	6月	7月	8月	9月	10月	11月	12月	年値
1945	15.5	×	×	×	×								15.5]
1963	12.4	13.5	17.3	20.8	25.7	26.5	28.3	28.4	27.8	23.5	21.5	18.3	22.0
1998	18.7	18.5	20.2	23.5	26.1	27.4	29.5	30.1	28.4	26.7	23.0	20.2	24.4
2020	18.7	18.7	20.1	19.8	24.8	28.1	29.3	29.4	27.7	25.8	23.9)		24.2]

(気象庁ホームページより 2020年11月作成)

表2 単位 mm

年	1月	2月	3月	4月	5月	6月	7月	8月	9月	10月	11月	12月	年値
1945	87	43	0	1	47]								178]
1963	62	49	40	39	15	75	64	224	166	40	48	148	970
1998	168	336	167	227	287	380	335	131	269	689	164	173	3322
2020	24	10	203	68	545	335	281	370	177	203	33.5)		2248]

(気象庁ホームページより 2020年11月作成)

- ア 1963年と1998年の雨温図を作って比較^{ひかく}してみよう。
- イ 1963年の沖縄県の農作物生産量を調べてみよう。
- ウ 2020年12月の気温と降水量を他の年と比較して予測してみよう。
- エ 1945年6月の平均気温を降水量から推測^{すいそく}してみよう。


(10) 下線部⑥のとおり、こうさんが描いた日本地図は間違っている部分があります。その部分を指摘^{してき}している文として最も適当なものを次の中から選び、記号で答えなさい。


- ア 北海道の形が反転している。
- イ 九州・沖縄地方の県が1県足りない。
- ウ 香川県と徳島県の県境がない。
- エ 群馬県が描かれていない。


2 次の文を読み、あとの各問いに答えなさい。


「いつ・どこで・何がおきたのか」、①歴史を探究する方法はさまざまです。過去に書かれた本、手紙、日記などの文章から、歴史を明らかにする方法もあります。


大介さんと裕子さんは文字資料とは別に歴史を知る方法はないかを考え、人々が残した「絵」に注目しました。以下は、大介さんと裕子さんがA～Gの7枚の絵を見ながら会話している様子です。


<p>A</p> 	<p>大介： これは変わった絵だね。何を描いているのだろう。</p> <p>裕子： これは②<u>弥生時代の銅鐸</u>に描かれた絵よ。当時の人々の生活を知るうえで大切な資料なの。</p> <p>大介： 狩りをしているような絵もあるね。左下の部分は何を描いているのかな。</p> <p>裕子： これは<u>脱穀</u>という作業を描いたものと考えられていて、この時代には(③)が伝わっていたことが絵からもわかるのよ。</p>
--	--


<p>B</p> 	<p>裕子： 女性の姿が描かれているみたいね。</p> <p>大介： この絵は④<u>奈良県の古墳</u>の中から発見された壁画なんだ。</p> <p>裕子： 着ている服などから、当時の生活を想像することができるわね。でも少しいたんでいるように見えるわ。</p> <p>大介： この壁画は発見されて以降、劣化がすすんでいるんだ。文化財をどのように保護していくのが、課題となっているそうだよ。</p>
--	---

<p>C</p> 	<p>大介： ⑥<u>貴族の女性たちが描かれているね</u>。とても優雅な生活を送っているように見える。</p> <p>裕子： これは『源氏物語』を題材にした絵巻物なの。この時代のことで知っていることはある？</p> <p>大介： (⑦) ころだよね。</p> <p>裕子： そうね。彼らは、多くの<u>荘園</u>からの収入や、天皇家との親類関係をもとに絶大な権力をもつようになったのよ。</p>
--	---

<p>D</p> 	<p>裕子： たくさんの方が描かれている。刀を差した武士の姿も見えるわ。何をしているんだろう。</p> <p>大介： 右奥にはお坊さんの姿が見えるだろう。⑧鎌倉時代に活躍した法然という僧侶だよ。みんな彼の話を聞きに集まっているんだ。</p> <p>裕子： 武士も仏教を信仰していたことがわかるわ。東大寺の大仏が造られた奈良時代の仏教とは少し違う感じがする。</p> <p>大介： ⑨信仰の変化の様子も絵からわかるんだね。</p>
--	--

<p>E</p> 	<p>大介： 商人たちの活気のある様子が絵から伝わってくるね。これはどんな絵だろう。</p> <p>裕子： これは、元禄期の「三井越後屋呉服店」を描いた⑩浮世絵なのよ。</p> <p>大介： この時代は戦国時代のような大きな戦乱もなく、5代将軍（⑪）のころから経済が急速に成長したんだよね。</p> <p>裕子： 絵に登場する人々に注目することでも、その時代の様子が分かるわね。</p>
--	---

<p>F</p> 	<p>裕子： 人々が逃げているわ。右のほうには警官のような人たちが見える。</p> <p>大介： これは「米騒動」の様子を描いたもので、米屋をおそった市民たちを警官たちが捕まえようとしている場面なんだ。</p> <p>裕子： 絵をよく見ると、電柱や線路のようなものが見えるわ。いつの時代の絵かしら。</p> <p>大介： これは、最近アニメでも話題になっている⑫大正時代の町の様子なんだよ。</p>
--	---

<p>G</p> 	<p>大介： 黒い犬が軍服を着て、剣をもっている。後ろには戦車や戦闘機も描かれているね。</p> <p>裕子： これは『のらくろ』という漫画の表紙で、子どもたちの間で人気だったみたい。1931年から雑誌で連載が始まったそうよ。</p> <p>大介： ⑬日本が本格的に戦争へ突き進みはじめる年だよ。漫画にも時代の影響が現れるんだね。</p> <p>裕子： 漫画に対する子どもたちの興味は、今も昔も変わらないのね。</p>
--	---

(1) 下線部①について、大介さんたちはそれぞれの時代の「絵」に注目して歴史の変化を理解しようとしていました。古代から現代まで、日本の歴史の変化を比べる対象として適当でないものを次の中から1つ選び、記号で答えなさい。

ア 衣服 イ 政党 ウ 住居 エ 食料

(2) 下線部②について、弥生時代の日本の様子について説明した文として正しいものを次の中から1つ選び、記号で答えなさい。

- ア 地域の支配者である豪族が、くにをつくり、王とよばれるようになった。
イ 大陸と陸続きであり、大型のナウマンゾウなどの狩りがさかんだった。
ウ この時代につくられた『万葉集』には、農民たちの和歌も収められている。
エ 遣唐使たちが、中国からさまざまな知識や技術を日本に持ち帰った。

(3) 会話文中(③)にあてはまる語句として正しいものを次の中から1つ選び、記号で答えなさい。

ア 仏教 イ 稲作 ウ 製鉄 エ 漢字

(4) 下線部④に関する歴史的な出来事として次の1～3の文が正しいなら「正」、誤っているなら「誤」と記した正誤表の組み合わせとして正しいものを、あとの表中ア～カから1つ選び、記号で答えなさい。

- 1 桓武天皇によってこの地に都が造られてから、19世紀に東京へ遷都されるまでの間、日本の都として栄えた。
- 2 日清戦争で得た賠償金をもとにこの地に八幡製鉄所が建設され、日本の近代産業の発達に大きな役割を果たした。
- 3 仏教を中心とした国家づくりをすすめた聖徳太子によって、この地に法隆寺が建立された。

表

	1	2	3
ア	正	正	誤
イ	正	誤	正
ウ	正	誤	誤
エ	誤	正	正
オ	誤	正	誤
カ	誤	誤	正

(5) 下線部⑤に関する説明として正しいものを次の中から 1 つ選び、記号で答えなさい。

- ア 日本全国に現存する古墳は、形や大きさが統一されている。
- イ 古墳の設計や土木工事などには、渡来人たちが重要な役割を果たした。
- ウ 「も百舌鳥・ず古市古墳群ふるいちこふんぐん」は、世界自然遺産への登録をめざしている。
- エ 古墳はおもに東北地方に分布しており、強い支配者がいたことを示している。

(6) 下線部⑥について、この時代の貴族の生活と関係のないものを 1 つ選び、記号で答えなさい。

- ア じゅうにひとえ十二単
- イ ひらがな
- ウ 枕草子
- エ 書院造

(7) 会話文中 (⑦) に入る大介さんのセリフとして最も適当なものを選び、記号で答えなさい。

- ア 中大兄皇子や中臣鎌足らが政治改革を進めていた
- イ 織田信長や豊臣秀吉らが天下統一をめざしていた
- ウ 藤原道長や藤原頼通らが摂関政治をおこなっていた
- エ 最澄や空海らが日本に新しい仏教を広めていた

(8) 下線部⑧について、鎌倉の地は周囲を山と海に囲まれた地形から「鎌倉城」ともよばれていました。鎌倉に入る道は限られ、右の写真はその道を切りひらく際につくられた「名越の切通し」を写したものです。このように、鎌倉へ入る道にはあえて道幅をせまくし、人を通りにくくした箇所が見られます。その理由を説明しなさい。



(9) 下線部⑨に関連して、日本の信仰の歴史について述べたⅠ～Ⅲの文を、時代の古い順に並べたものとして正しいものを、あとのア～カから 1 つ選び、記号で答えなさい。

- Ⅰ キリスト教へのきびしい取りしまりに反対し、九州地方で反乱がおきた。
- Ⅱ 臣民の義務にそむかない限り、信教の自由を有すると憲法に規定された。
- Ⅲ 中国から渡ってきた鑑真は、日本の仏教の発展に大きな役割を果たした。

- | | | | | | |
|---|-------|---|-------|---|-------|
| ア | Ⅰ→Ⅱ→Ⅲ | イ | Ⅰ→Ⅲ→Ⅱ | ウ | Ⅱ→Ⅰ→Ⅲ |
| エ | Ⅱ→Ⅲ→Ⅰ | オ | Ⅲ→Ⅰ→Ⅱ | カ | Ⅲ→Ⅱ→Ⅰ |

(10) 下線部⑩について、「浮世絵」の説明として正しいものを次の中から 1 つ選び、記号で答えなさい。

- ア 役者や風景などを題材とし、木版画による大量生産で庶民にまで広がった。
- イ 墨一色の濃淡によって描く技法で、日本独自の発展をとげた。
- ウ 城のふすまや屏風などに、金銀を用いた豊かな色彩で描かれた。
- エ ヨーロッパから伝わった油彩画や水彩画などの技法が用いられた。

(11) 会話文中 (⑪) にあてはまる人物名を答えなさい。

(12) 下線部⑫について、この時代、民主主義の考え方が国民の間に広がりました。
この時代の出来事として正しいものを1つ選び、記号で答えなさい。

- ア 20歳以上のすべての男女に選挙権^{あた}が与えられた。
- イ 板垣退助らは国会開設を求め、政府に意見書を提出した。
- ウ 平塚らいてうは、女性の地位の向上をめざす運動を行った。
- エ 高度経済成長にともなう環境汚染^{かんきょうおせん}に対し、国民は公害の防止を求めた。


(13) 下線部⑬について、1931年から終戦までの日本の歴史の流れを示した次の年表
(I) ~ (III) に入る語句の組み合わせとして正しいものを、あとの表中ア～カから1つ選び、記号で答えなさい。

- 1931年 鉄道の爆破^{ぼくは}をきっかけに、(I) 全土^{ぜんど}を占領^{せんりょう}し、翌年(I) 国を建国した。
- 1933年 日本政府は(II) からの脱退^{だつたい}を決定した。
- 1937年 日中戦争が始まった。
- 1941年 ハワイの真珠湾を攻撃し、太平洋戦争が始まった。
- 1945年 (III) 宣言を受け入れ、戦争が終結した。

表

	I	II	III
ア	朝鮮	日独伊三国同盟	ポツダム
イ	沖縄	北大西洋条約機構	ポーツマス
ウ	満州	北大西洋条約機構	ポーツマス
エ	朝鮮	国際連盟	ベルサイユ
オ	沖縄	日独伊三国同盟	ベルサイユ
カ	満州	国際連盟	ポツダム

(14) 大介さんと裕子さんは、次の絵を資料に追加しようと考えています。絵と会話文を見て、あとの問いに答えなさい。

	裕子：	とてもおそろしい顔をしているわね。
	大介：	黒船を率 ^{ひき} いて浦賀に上陸したこの人物を、当時の人が想像で描いたそうよ。当時の外国に対する日本人の意識がわかるね。
	裕子：	私たちの暮らす沖縄にも来たみたいね。家の近くの海岸に彼の上陸を記録した ^{せきひ} 石碑があるわ。
	大介：	彼がその後の日本の歴史にとっても大きな影響を与えたんだよ。
	裕子：	幕府が滅 ^{ほろ} びる一つの原因となったのね。

①この絵の説明として正しいものを次の中から1つ選び、記号で答えなさい。

- ア 描かれた人物はフランシスコ・ザビエルで、外国との交流が少なかった日本人にとって、開国をせまる彼の存在は大きな恐怖^{きょうふ}となっていたことがわかる。
- イ 描かれた人物はフランシスコ・ザビエルで、仏教を重んじる日本人にとって、キリスト教の布教^{ふきょう}を求める彼の存在は憎しみの対象^{たいしょう}となっていたことがわかる。
- ウ 描かれた人物はマシュー・ペリーで、外国との交流が少なかった日本人にとって、開国をせまる彼の存在は大きな恐怖となっていたことがわかる。
- エ 描かれた人物はマシュー・ペリーで、仏教を重んじる日本人にとって、キリスト教の布教^{ふきょう}を求める彼の存在は憎しみの対象^{たいしょう}となっていたことがわかる。

②A～G (9 ページ・10 ページ) は時代の順に並んでいます。この絵を歴史の順番に並べるとしたらどの位置に入りますか。最も適当なものを次の中から選び、記号で答えなさい。

- ア Aの前 イ AとBの間 ウ BとCの間 エ CとDの間
- オ DとEの間 カ EとFの間 キ FとGの間 ク Gの後

問題は次のページにつづきます

3 次の説明文と右ページの資料A～Cを見て、あとの各問いに答えなさい。

説明文

2020年は新型コロナウイルスの影響で私たちが暮らす沖縄県を取り巻く状況は大きく変化しました。

2019年までは、沖縄県を訪れる観光客が年々増加傾向^{けいこう}にありました。その中でも、特に外国人観光客の増加は目立つようになっていたので、沖縄県内に暮らす外国人について調べてみることにしました。

まず初めに、沖縄県内に住んでいる外国人の数について調べました(資料A)。この資料から、[①]ということが分かります。

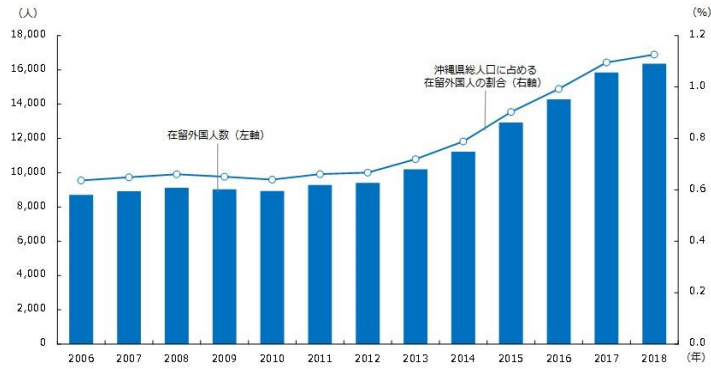
次に、沖縄県内に住んでいる外国人の国籍^{こくせき}について調べました(資料B)。この資料から、[②]ということが分かります。

最後に、沖縄県内で働く外国人の国籍について調べました(資料C)。仕事をしている外国人の国籍では、③ネパールが最も多いということが分かります。私たちの身近な場所で働いている外国人はネパール出身なのかもしれません。

日本に来る外国人は、許可なく日本に住むことや、好きな仕事を自由に選択^{せんたく}することはできません。④日本の法律^{もと}に基づいて入国し、定められた職種で仕事を行い、日本での生活をおくっています。沖縄県内に⑤外国人が増えると、さまざまな考え方や、沖縄にはない文化に触れることができます。そのためにも、⑥外国人の生活や文化を私たちがもっと知る必要があります。

新型コロナウイルスの世界的な感染拡大がおさまりに、再び異文化交流が活発に行われる日がくることを切に願います。

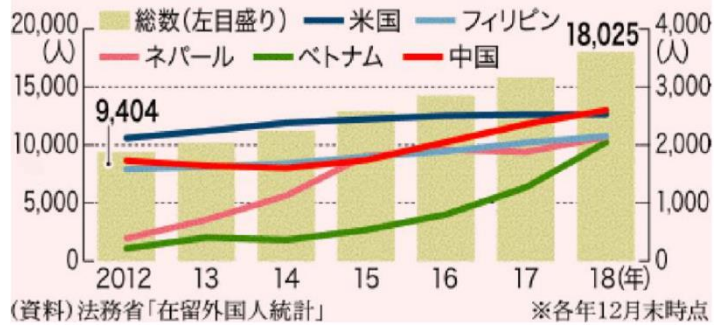
資料 A



(AIKATA ホームページ 2019年4月25日の記事より)

資料 B

県内の在留外国人の総数と主な国籍別の推移



(資料) 法務省「在留外国人統計」

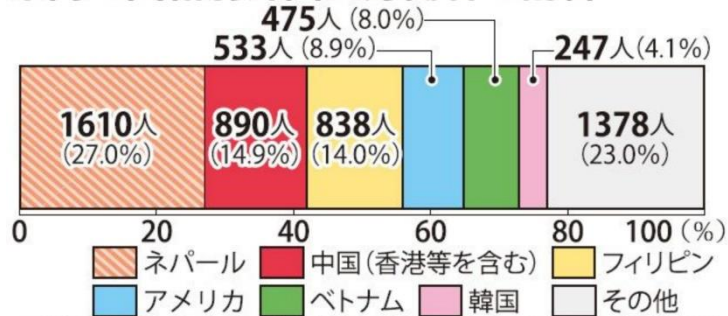
※各年12月末時点

※米軍関係者は除く

(沖縄タイムス+プラス 2019年8月6日の記事より)

資料 C

県内の国籍別外国人労働者の割合



※構成比は小数点以下第2位を四捨五入しているため、合計しても必ずしも100とはならない

※米軍関係者は除く

(沖縄タイムス+プラス 2017年2月10日の記事より)

(1) 文中〔 ① 〕に入る文として最も適当なものを次の中から選び、記号で答えなさい。

- ア 2006年と2018年を比較した場合、沖縄県内に住んでいる外国人の数は、3倍以上増加している
- イ 沖縄県の総人口に占める外国人の割合は、2006年から毎年0.1%ずつ増加している
- ウ 2008年から2010年にかけて、沖縄県内に住んでいる外国人の数は、急速に増加している
- エ 沖縄県の総人口に占める外国人の割合は、2018年の時点で1%をこえている

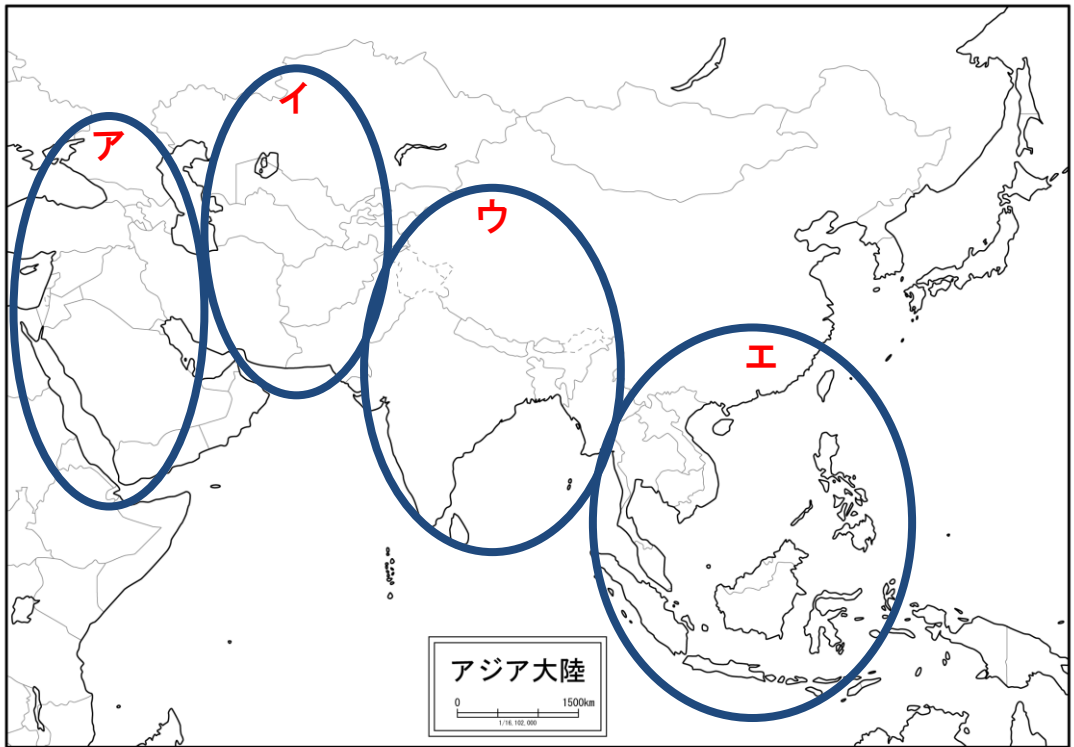
(2) 資料Aから算出した2018年時点の沖縄県の総人口として、最も適当なものを次の中から選び、記号で答えなさい。

- ア 約80万人 イ 約100万人 ウ 約140万人 エ 約200万人

(3) 文中〔 ② 〕に入る文として最も適当なものを次の中から選び、記号で答えなさい。

- ア 県内に住むアメリカ人は、太平洋戦争後に沖縄へ来た人がほとんどである
- イ 2018年の時点で、県内に住む外国人の国籍では中国が最も多い
- ウ 2018年の時点で、県内に住む外国人の国籍では中国とベトナムの出身者だけで1万人以上いる
- エ 県内に住むベトナム人は、独身者よりも家族連れが多い

(4) 文中の下線部③が位置する地域として正しいものを地図中ア～エから1つ選び、記号で答えなさい。



(5) 文中の下線部④に関連して、法律ができるまでの流れとして正しいものを次の中から1つ選び、記号で答えなさい。

- ア 法律は、国会における議決によって成立する。
- イ 法律は、都道府県知事の話し合いによって成立する。
- ウ 法律は、内閣総理大臣がひらく閣議において多数の賛成によって成立する。
- エ 法律は、国民の意見をもとに裁判官の投票によって成立する。

(6) 文中の下線部⑤に関連して、日本に住む外国人にも日本国憲法は適用されます。

日本国憲法を説明した文として誤っているものを次の中からすべて選び、記号で答えなさい。

ア 日本国憲法では、天皇が主権者であると定められている。

イ 日本国憲法の三大原則は、「国民主権」「平和主義」「基本的人権の尊重」である。

ウ 日本国憲法は、1946年に公布され、その後、二度改正されている。

エ 日本国憲法では、日本に住む外国人も日本の裁判所に訴えをおこすことができると定められている。

(7) 文中の下線部⑥に関連して、資料1と資料2がしめす宗教名を答えなさい。



資料1:飲食物などに表示されるマーク

- ・ 1日5回の礼拝を行う。
- ・ サウジアラビアのメッカが聖地のひとつである。
- ・ 豚肉やアルコールを食することが禁止されている。

資料2:宗教の特徴

- (8) 外国との関わりに関連して、下の写真は、私たちが海外へ行く際に必要なパスポートです。写真中の空らんには、このパスポートを発行している行政機関の大臣名とその印が記されています。空らんにあてはまるものとして正しいものを、あとのア～エから1つ選び、記号で答えなさい。



- ア 厚生労働 イ 防衛 ウ 文部科学 エ 外務

4 課題文を読み、①～④の条件に合わせて作文を書きなさい。

(解答らんは解答用紙裏面です)

課題文

小学生のつきたい職業は、その時代の社会の様子に大きな影響を受けます。右の表は、学研教育総合研究所が1989年と2019年に実施した、小学生の将来つきたいと思っている職業調査の結果、上位1～5位を表しています。

この調査によると、約30年前の小学生男子では「一般サラリーマン」が2位に入っています。これは当時バブル期であった日本において、ビジネススーツに身を包んだサラリーマンなどの姿がドラマなどでも取り上げられ、小学生男子の憧れとなったのではと分析しています。

一方、2019年の小学生男子では「You Tuberなどのネット配信者」が1位になりました。このことは、小学生のインターネット上の平均動画閲覧時間が1日44分という結果（同研究所調べ）にも影響を受けているのではと分析しています。

これを参考に、皆さんが小学生の親世代となる今から30年後（2050年くらい）では、どのような職業が新たに上位に入ってくるでしょうか。時代の変化も想像しながら、考えましょう。

条件

- ①職業（仕事内容）を答えましょう。
- ②その職業（仕事内容）を選んだ理由を160字以上、200字以内で説明しましょう。
- ③説明の際には、できるだけ社会の変化にも着目しましょう。
- ④まだ存在しない職業も含め、どのような職業なのか仕事内容を答えてもかまいません。職業を考える際は、性別にとらわれる必要はありません。

小学生の将来つきたい職業

1989年（平成元年）小学生男子

1位	プロ野球選手
2位	一般サラリーマン（会社員）
3位	プロ野球以外のスポーツ選手
4位	警察官
5位	パイロット

1989年（平成元年）小学生女子

1位	保育士・幼稚園教諭 <small>ようちえんきょうゆ</small>
2位	小・中・高の先生
3位	看護師
4位	歌手
5位	ファッションデザイナー

2019年（令和元年）小学生男子

1位	You Tuber などのネット配信者
2位	プロサッカー選手
3位	プロ野球選手
4位	運転士
5位	警察官

2019年（令和元年）小学生女子

1位	パティシエ
2位	保育士・幼稚園教諭
3位	看護師
4位	医師（歯科医師を含む） <small>く</small>
5位	ファッション関係
5位	花屋

（学研教育総合研究所 小学生白書より作成）