

令和4年度  
興南中学校  
入学試験問題

前期

社会

令和4年1月8日（土）実施 45分／100点満点

受験上の注意

1. 試験開始の合図があるまで、この問題用紙は開かないようにして下さい。  
解答用紙は別になっています。
2. 問題は 1 ～ 4 まで4題あります。
3. 試験時間は45分です。
4. 解答は解答用紙の所定のところに記入して下さい。
5. 解答用紙には、受験番号、小学校名、氏名を必ず記入して下さい。
6. 試験終了後、問題用紙は持ち帰って下さい。





- 1 次のA～Iは、ポケモンマンホール「ポケふた」を設置している9市町村の説明です。あとの各問いに答えなさい。

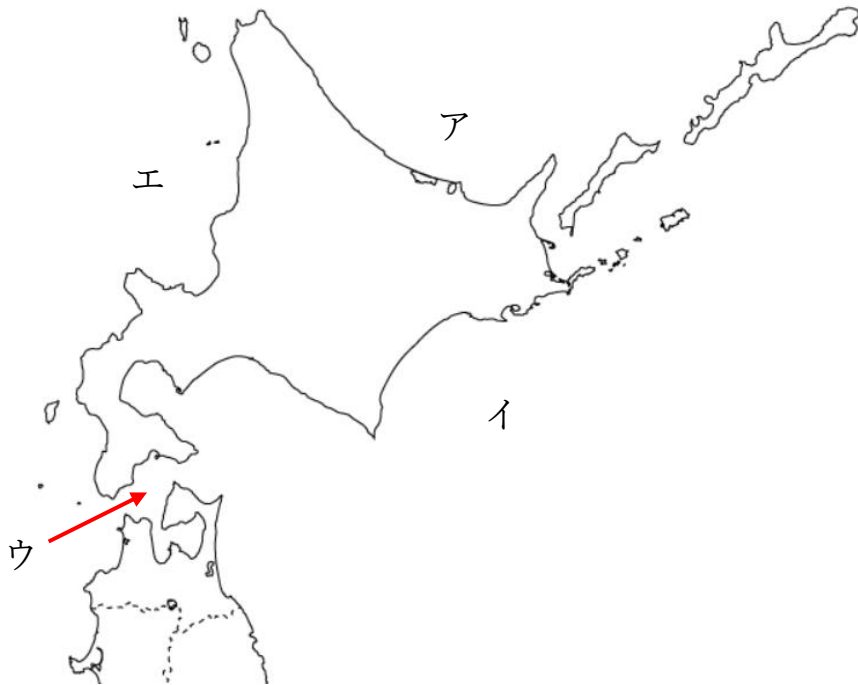
A		<p style="text-align: center;"><b>北海道 紋別市</b></p> <p>紋別市は①オホーツク海沿岸のほぼ中央に位置する人口約2万人のまちです。オホーツク海や牧草地、山林など豊かな自然の恵みを活かした一次産業がまちの基幹産業ですが、何と云っても有名なのは、冬のオホーツク海に訪れる「流水」です。</p>
B		<p style="text-align: center;"><b>宮城県 女川町</b></p> <p>牡鹿半島の基部に位置する、海と自然に囲まれた女川町。風光明媚な②リアス式海岸では、カキやホタテ、キンザケ等の養殖がさかんに行われています。</p>
C		<p style="text-align: center;"><b>東京都 小笠原村</b></p> <p>人口約2,500人、③東京都心の港から約1,000km南にあり、定期船で約24時間の船旅を経てたどり着く小笠原村。他の陸地から遠く離れた海洋島だから育まれた小笠原固有の生態系を持つ雄大な自然は、④世界自然遺産に登録されています。</p>
D		<p style="text-align: center;"><b>新潟県 小千谷市</b></p> <p>⑤小千谷市は、麻織物「小千谷縮」の産地であり、世界最大級の四尺玉花火が上がることで知られる自然豊かなまちです。また、「泳ぐ宝石」ともいわれる錦鯉の発祥の地でもあります。</p>
E		<p style="text-align: center;"><b>奈良県 斑鳩町</b></p> <p>⑥斑鳩町は奈良県の北西部に位置し、世界文化遺産である法隆寺・法起寺や藤ノ木古墳など、多くの寺社や文化財があり、豊富な歴史文化と、水と緑の豊かな自然に恵まれたまちです。</p>

F		<p style="text-align: center;"><b>岡山県 倉敷市</b></p> <p>⑦倉敷市は、瀬戸内海に面した、広島と大阪の中間に位置するまちです。倉敷美観地区、瀬戸大橋や鷺羽山などの観光資源に恵まれ、年間約 520 万人の観光客が訪れます。また、多彩な⑧繊維製品を生み出す繊維のまちとしても有名です。</p>
G		<p style="text-align: center;"><b>香川県 綾川町</b></p> <p>綾川町は⑨香川県のほぼ中央に位置するまちで、讃岐うどん発祥の地として知られています。また県下最長の河川である綾川が北流しており、柏原渓谷は、讃岐百景の一つになっています。</p>
H		<p style="text-align: center;"><b>宮崎県 都城市</b></p> <p>⑩都城市は、清冽な地下水と豊かな自然に恵まれ、焼酎やお茶などの名産地として知られています。また牛・豚・鶏の合計産出額が日本一という『日本一の畜産のまち』でもあります。</p>
I		<p style="text-align: center;"><b>沖縄県 那覇市</b></p> <p>琉球王朝時代から「首里」を中心に国際港湾都市として栄え、独自の歴史と文化が息づく那覇市は、⑪沖縄のすべてを凝縮したまちです。那覇三大祭り（5月那覇ハーリー、10月那覇大綱挽まつり、11月琉球王朝祭り首里）を始め、ほぼ毎月イベントが開催されており、沖縄観光の玄関口として皆様をお迎えします。</p> <p>場所：沖縄県那覇市牧志 3-2</p>

(ポケモンマンホール『ポケふた』ホームページより一部改編)

(1) 下線部①の位置として最も適当なものを、次の地図 I 中のア～エから選び、記号で答えなさい。

地図 I



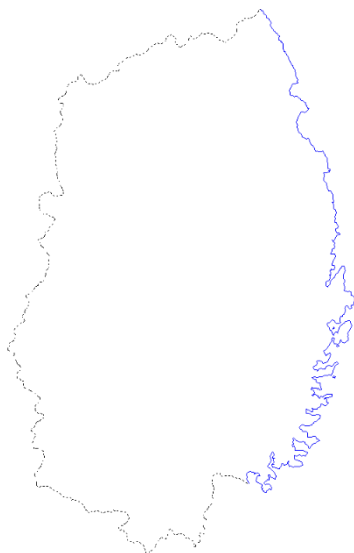
(2) 下線部②に関連して、リアス式海岸を含む都府県として誤っているものを、次のア～エから 1 つ選び、記号で答えなさい。

※青色の実線は、海岸線をしめしている。

※ア～エの縮尺はそれぞれ異なる。

※東京都は、伊豆諸島と小笠原諸島を除く。

ア 岩手県



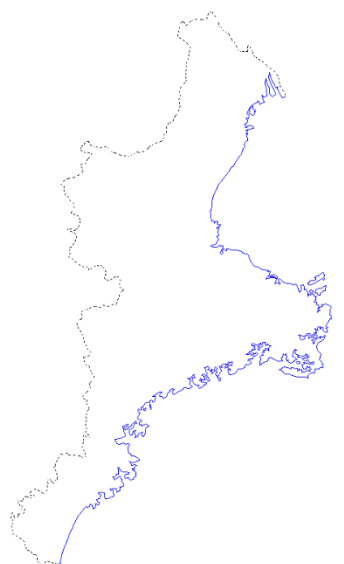
イ 京都府



ウ 東京都



エ 三重県



(3) 下線部③に関連して、次の地図Ⅱと次ページの地図Ⅲは東京都心から15km圏内に位置する埼玉県八潮市のハザードマップです。地図Ⅱ・地図Ⅲから読み取れる内容として誤っているものを次の中から1つ選び、記号で答えなさい。

- ア 中川で堤防が決壊した場合、住民がどの方向へ避難すれば安全か、矢印で表していることがわかる。
- イ 中川で堤防が決壊した場合、住民を一時的に受け入れるための避難所として、学校や公園などが指定されていることがわかる。
- ウ 中川で堤防が決壊した場合、24時間以内に八潮市のほとんどが浸水する可能性が高いことがわかる。
- エ 中川で堤防が決壊した場合、八潮駅周辺の列車の運行状況に乱れが発生する可能性が高いことがわかる。

※ハザードマップとは…洪水や津波、土砂災害などの自然災害について、災害が起きたときに被害が発生しやすい地域や避難経路・避難場所などがしめされている地図。

地図Ⅱ

堤防決壊からの時間経過

堤防が決壊してから八潮市内が浸水するまでの時間と避難する方向



中川で堤防が決壊  
※ 破堤地点：中川右岸  
BP057 付近（八潮市）

決壊から24時間で市内の約  
1/3が浸水

決壊から36時間で市内の約  
3/4が浸水

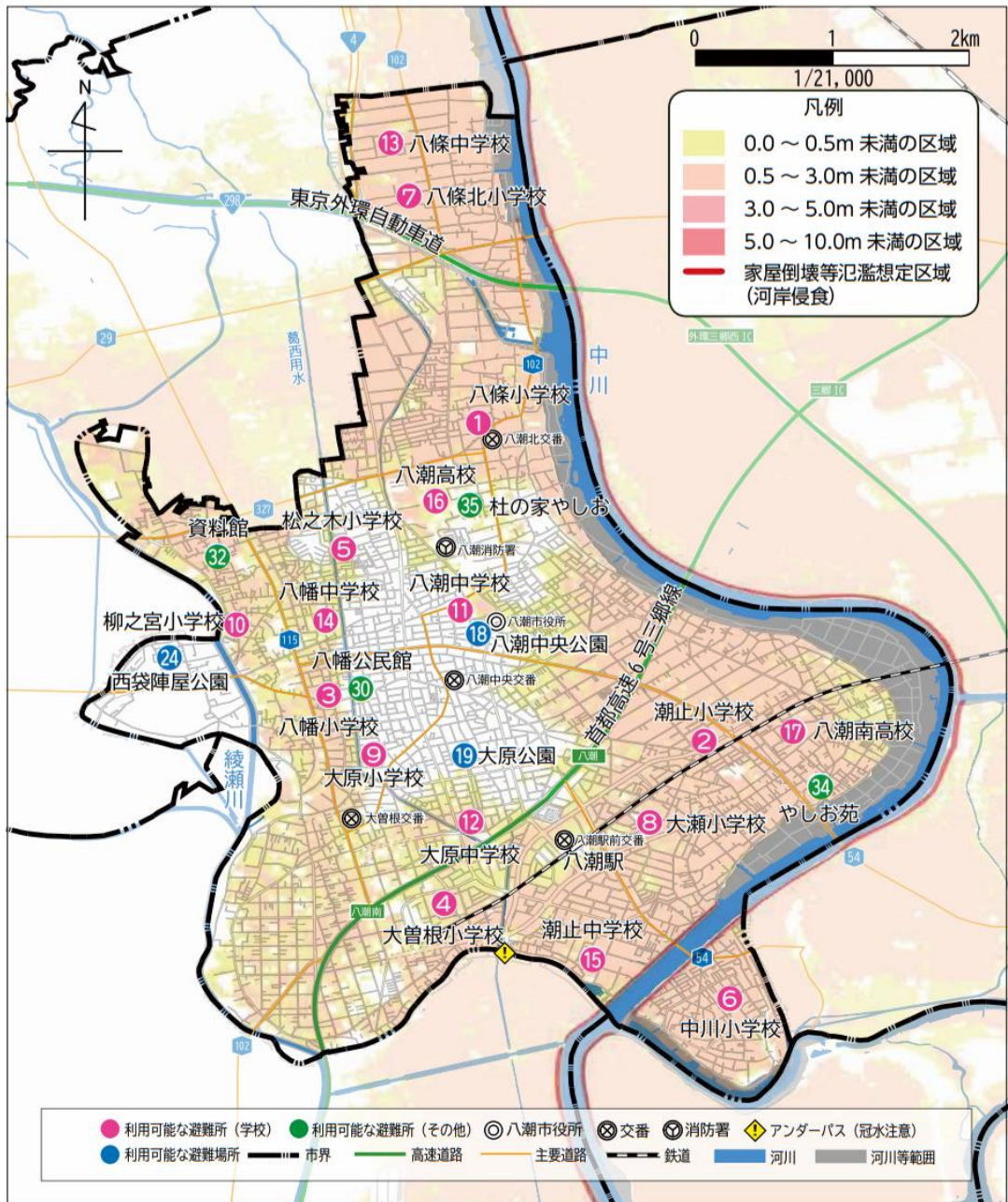
※このハザードマップは、想定最大規模降雨に伴う洪水により中川が氾濫した場合の浸水の状況をシミュレーションにより予測したものです。



### 地図Ⅲ

#### 浸水想定区域

中川が氾濫した際に発生する浸水の範囲と深さ



※このハザードマップは、想定最大規模降雨に伴う洪水により中川が氾濫した場合の浸水の状況をシミュレーションにより予測したものです。

(八潮市ホームページより引用)

(4) 下線部④に関連して，日本国内の世界自然遺産地域として誤っているものを次の中から1つ選び，記号で答えなさい。

ア 奄美大島，徳之島，  
沖縄島北部及び西表島



イ 釧路湿原



ウ 白神山地



エ 屋久島



(環境省ホームページより引用)

(5) 下線部⑤に関連して、次の文中( A )にあてはまる語句として正しいものを、あとのア～エから1つ選び、記号で答えなさい。

### 小千谷市はここです

新潟県のほぼ中央、日本一の大河・( A )により形成されたまち・小千谷。

美しい山河に恵まれた、文化の香りゆたかなこのまちは、すべての市民の<sup>ほこ</sup>りです。



(小千谷市ホームページを一部改編)

ア 石狩川

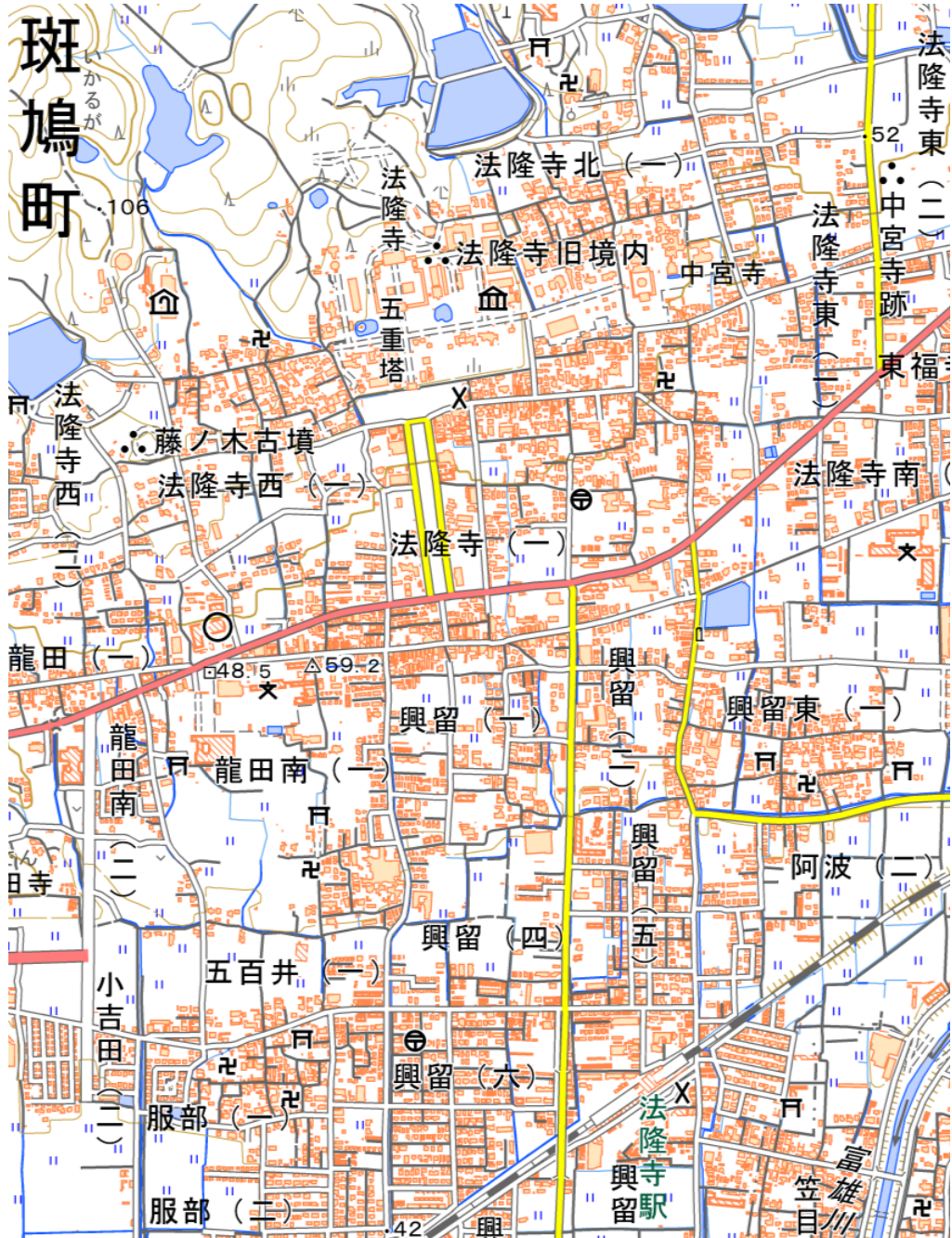
イ 信濃川

ウ 利根川

エ 最上川

(6) 下線部⑥の範囲をしめした次の地図Ⅳから読み取れる内容として正しいものを、あとのア～エから1つ選び、記号で答えなさい。

地図Ⅳ



(国土地理院 地理院地図より引用)

- ア 藤ノ木古墳の周辺には、寺院と老人ホームが立地している。
- イ 法隆寺旧境内の周辺には、図書館と交番が立地している。
- ウ JR 法隆寺駅の周辺には、警察署と神社が立地している。
- エ 役場の周辺には、高等学校が立地している。

(7) 下線部⑦に設置されているポケモンマンホール「ポケふた」として最も適当なものを次の中から選び、記号で答えなさい。

ア



イ



ウ



エ



(8) 下線部⑧に関連して、日本のアパレル企業きぎょうはんばいてんぽの販売店舗は日本国内だけでなく、世界各国に展開しています。次の地図Vは2021年5月末現在、ユニクロの店舗がある国をしめたものです。この図から読み取れる内容として誤っているものを、あとのア～エから1つ選び、記号で答えなさい。

※アパレル…衣服のこと

※ユニクロ…日本を代表する衣料品販売企業

地図V



(ファーストリテイリンググループホームページの資料をもとに作成)

- ア ユニクロの店舗がある国より、ユニクロの店舗がない国の方が多い。
- イ アジア全体で見ると、東アジアや東南アジアは、西アジアや中央アジアに比べてユニクロの店舗のある国が多い。
- ウ オセアニアやヨーロッパにもユニクロの店舗がある。
- エ 六大陸で見ると、ユニクロの店舗がある国が存在しないのは、アフリカ大陸と南極大陸のみである。

(9) 下線部⑨の県庁所在地として正しいものを次の中から 1 つ選び、記号で答えなさい。

ア 高松市

イ 松江市

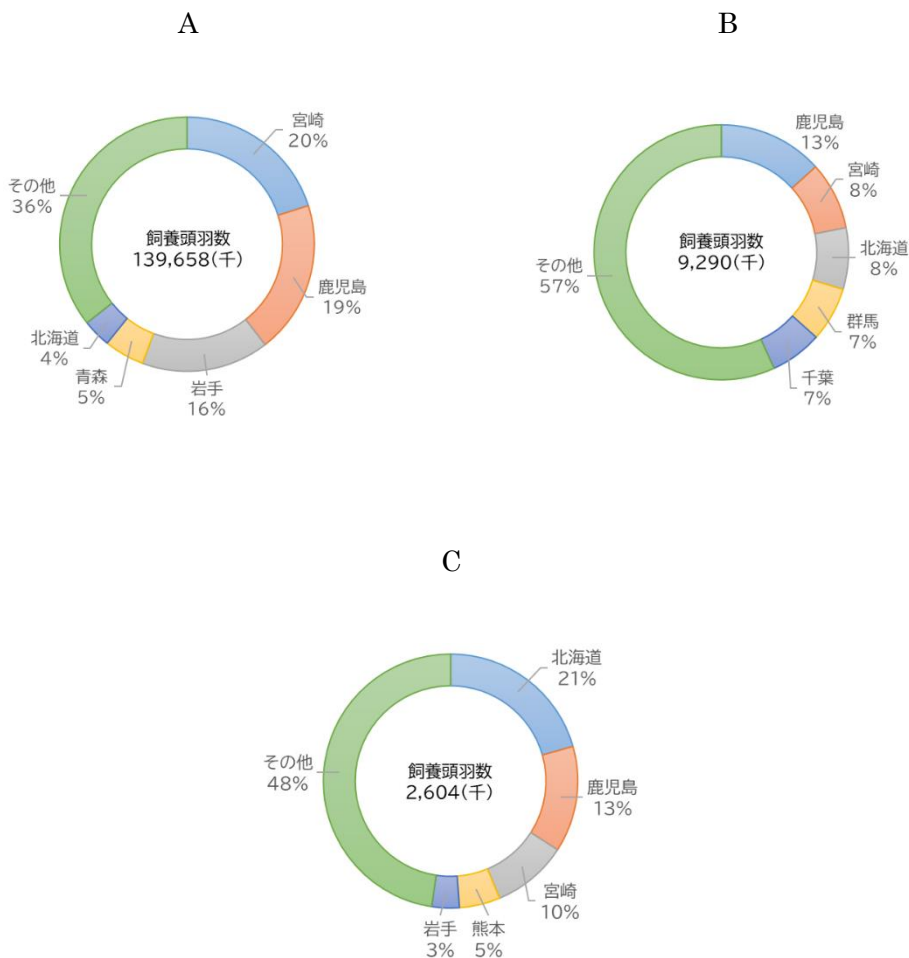
ウ 松山市

エ 丸亀市

(10) 下線部⑩に関連して、鹿児島県から宮崎県南部にかけて広がる火山灰台地の名称をカタカナ 3 文字で答えなさい。

(11) 下線部⑩は畜産がさかんな地域です。次の A～C の円グラフは「肉用牛・豚・ブロイラー」の 2021 年 2 月時点での都道府県別飼養頭羽数の上位 5 位までをしめたものです。各畜産物の組み合わせとして正しいものを、あとの表中ア～カから 1 つ選び、記号で答えなさい。

※ブロイラー…日本で流通する約 9 割の鶏肉で、飼養日数が約 50 日と短期間。



(農林水産省『畜産統計』より作成)



	A	B	C
ア	肉用牛	豚	ブロイラー
イ	肉用牛	ブロイラー	豚
ウ	豚	肉用牛	ブロイラー
エ	豚	ブロイラー	肉用牛
オ	ブロイラー	肉用牛	豚
カ	ブロイラー	豚	肉用牛

(12) 下線部⑩に関連して、次の文中（ X ）と（ Y ）にあてはまる語句として正しいものを、あとのア～カから1つ選び、記号で答えなさい。

（ X ）が人口10万人到達！ 沖縄で5つ目 喜ぶ松川市長，（ Y ）返還に意欲  
 沖縄県（ X ）の松川正則市長は26日、同市の人口が10万人に達したと発表した。  
 同市役所での記者会見で「先人の皆さま、そして関係各位のご尽力のたまもの。  
 これからの（ X ）の未来に幸あれと祈念したい」と述べ、米軍（ Y ）飛行場の早期閉鎖・返還や子育てしやすいまちづくりにあらためて意欲を示した。

（沖縄タイムス 2020年6月27日の記事を一部改編）

	X	Y
ア	浦添市	普天間
イ	浦添市	辺野古
ウ	宜野湾市	普天間
エ	宜野湾市	辺野古
オ	名護市	普天間
カ	名護市	辺野古

2 次の文を読み、あとの各問いに答えなさい。

私たちは毎日、天気・気象を気にかけます。歴史においても、長く雨が降らない干ばつや、豪雨による水害など、天気が人間の生活に大きな影響を与えてきました。

今から約 260 万年前から約 1 万年前にかけて、地球は氷河時代と呼ばれる寒い時期でした。わたしたちの祖先は、寒さに耐えるため、火を使うようになり、①石をうちくだった道具を作って、狩りや漁の生活を送っていました。

今から約 1 万年前には、氷河時代が終わって地球が温暖化、動植物の種類も変化し、②実のなる野生の植物の栽培も始まりました。今から約 2300 年前には日本に稲と稲作が伝わってきて、生活を大きく変化させました。

5 世紀ごろ、地球は全体的に寒くなり食料などをめぐる争いが激化し、日本では強大な王が現れました。王は現在の大阪や奈良を中心に、③世界最大規模の墓を作ることができるほど、多くの人々を支配しました。王は「大王」・「天皇」と呼ばれ、豪族と手を組んで、国づくりを始めました。

7 世紀の日本では、中国を参考に法律や都がつくられました。奈良時代、日本は暖かすぎて乾燥する年が多く、当時つくられた歴史書である『古事記』・『( ④ )』とその続巻には、水不足・干ばつで荒れ地も増えたと記載されています。

⑤平安時代も、高温乾燥の天気が続き、ききんや感染症の流行が起きました。貴族たちは都から地方に出ることをさげ、地方政治がおろそかになりました。そのため、各地方で自らの土地を自らの力で守ろうとして武装した人々、すなわち武士が登場しました。

武士の中でも力をつけたのは、源氏と平氏です。平氏は西日本に拠点をおき、雨の少ない瀬戸内海で交易をさかんに行いました。貴族の権力争いの中で平氏が台頭し、平( ⑥ )が武士として初めて朝廷のトップとなりました。源氏が反撃を開始した 1180 年、異常気象で西日本が食料不足となりました。平氏が源氏に敗れるのは、この異常気象が背景にあったと考えられます。

源( ⑦ )は、鎌倉に武士の政権を築きました。この時代は、寒さに悩まされた時代で、そのうえ台風や大雨、火山噴火、さらには感染症も多く発生しました。

全世界的な寒冷化の中、13 世紀にモンゴル帝国が食料の豊富な地域を支配し、中国北部にも進出、国名を「元」としてアジア各地に攻めこみました。⑧その軍勢は日

本にも襲来しましたが、幕府軍の戦いぶりと激しい暴風雨の発生により、撃退することができました。

1460年ごろ、干ばつと台風によって京都で餓死者が多く出ました。1465年には一転して冷夏と長雨となりました。そのような中で起こったのが応仁の乱です。この乱では、( ⑨ ) と呼ばれる歩兵が京都の町で略奪や乱暴をはたらきましたが、異常気象で生活が苦しかったことがその裏にあると考えられます。

応仁の乱ののち、日本各地で独自の領地を支配する戦国大名が登場します。戦国大名の一人、織田信長は、⑩隣となりの静岡県一帯を支配する大大名の今川氏をたおして、その名を全国にとどろかせました。その戦いでは、信長軍は豪雨を利用して相手に気づかれずに接近し、勝利することができました。

江戸時代となってからは、数十年ごとに異常気象によるききんにみまわれました。1636年には干ばつにより九州で多くの餓死者が出ました。翌年から始まる⑪島原・天草一揆は、幕府や藩による厳しいキリスト教弾圧に抵抗して発生しましたが、その原因の一つにこの前年からのききんがあったと考えられます。このときの将軍徳川( ⑫ ) は、まず全国でのききんの状況把握につとめ、田畑が荒れないよう指示を出しました。また、1695年には、冷夏で不作となってききんとなりました。このときの将軍徳川( ⑬ ) は、生類あわれみの令の徹底化を図っている最中で、違反したものを厳罰に処していました。

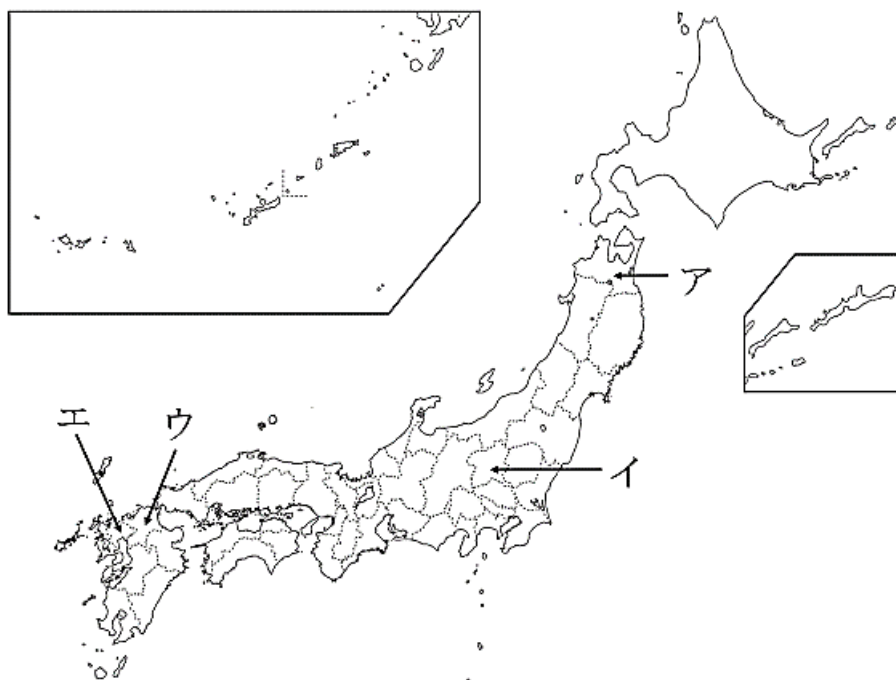
江戸時代で最大のききんは、1782年から始まる天明のききんです。この年、東北地方で長雨・冷夏となり、米は不作となりましたが、このときの東北地方の米は、船で⑭大阪に運んで商品として全国に売られるしくみとなっていたため、米不足は全国に拡大しました。

明治時代となってからも、異常気象は何度もありました。⑮1902年から1905年は例年より寒冷で、農作物が不作でした。また、⑯昭和となってからも、1931年に冷夏で不作、1933年の春には東北地方で巨大地震と大津波が発生し甚大な被害をもたらしました。ただ、江戸時代以前とちがうのは、科学技術の進歩、とりわけ気象の予報技術や農業技術が向上したことで、被害をうける人が少なくなったことです。今後もわたしたちは異常気象や気候変動になやまされるでしょうが、技術の進歩のための努力と危機への備えの心を忘れてはいけなとを考えます。

(1) 下線部①の道具の名称を次の中から1つ選び、記号で答えなさい。

ア 骨角器      イ 縄文土器      ウ 磨製石器      エ 打製石器

(2) 下線部②に関して、植物の栽培のあとが発見された「三内丸山遺跡」がある都道府県を次の地図中のア～エから1つ選び、記号で答えなさい。



(3) 下線部③に関して、次の図のような古墳のかたちを何といいますか。漢字 5 文字で答えなさい。



(4) 本文中の空らん（④）に入る語句を漢字で答えなさい。

(5) 下線部⑤の時代のできごとを述べた文として正しいものを次の中から1つ選び、記号で答えなさい。

- ア 口分田が不足したため、新たに耕した土地の永久私有を認める墾田永年私財法が制定された。
- イ 天平文化が花開き、文学では『万葉集』がまとめられ、建築物としては東大寺がつくられた。
- ウ 藤原氏が摂政・関白の地位について政治を行い、道長・頼通父子のときに全盛となった。
- エ 唐から鑑真が来日し、唐招提寺を建てて、日本の仏教の発展に尽くした。

(6) 本文中の空らん ( ⑥ ) ( ⑦ ) ( ⑫ ) ( ⑬ ) に入る人名の組合せとして正しいものを次の表中ア～エから 1 つ選び、記号で答えなさい。

表

	( ⑥ )	( ⑦ )	( ⑫ )	( ⑬ )
ア	頼朝	清盛	綱吉	家光
イ	頼朝	清盛	家光	綱吉
ウ	清盛	頼朝	綱吉	家光
エ	清盛	頼朝	家光	綱吉

(7) 下線部⑧に関して述べた文として誤っているものを次の中から 1 つ選び、記号で答えなさい。誤っているものがなければ、オと答えなさい。

- ア この襲来事件は「元寇」と呼ばれ、元は合計 2 回攻めこんできた。
- イ 元は日本に属国となることを要求したが、将軍の足利尊氏はこの要求をしりぞけて戦った。
- ウ 元軍の集団戦法や火薬兵器に、日本の武士たちは苦しめられた。
- エ 幕府は、戦った武士たちにほうびの土地を<sup>あた</sup>与えることができず、武士たちの幕府への不満が高まった。

(8) 本文中の空らん ( ⑨ ) に入る語句を漢字で答えなさい。

(9) 下線部⑩の戦いの名称を次の中から 1 つ選び、記号で答えなさい。

- ア 白村江の戦い
- イ 桶狭間の戦い
- ウ 関ヶ原の戦い
- エ 壇ノ浦の戦い

(10) 下線部⑩の事件以前に起こったできごとを次の中から 1 つ選び、記号で答えなさい。できごとがなければ、オと答えなさい。

- ア ポルトガル船の来航が禁止される                      イ 享保の改革が行われる  
ウ 田沼意次が商業重視の政治を行う                      エ 大塩平八郎の乱がおこる

(11) 下線部⑪に関して、江戸時代の大阪は、全国から米や特産物が運びこまれ、商業や金融の中心地であったので「天下の（        ）」と呼ばれました。この空欄に入る語句を漢字で答えなさい。

(12) 下線部⑫に関して、1902 年から 1905 年の間に起こったできごとについて述べた文として正しいものを次の中から 1 つ選び、記号で答えなさい。

- ア 地租改正が行われ、税は土地所有者が地価の 3%を納めることとされた。  
イ 直接国税を 15 円以上納める 25歳以上の男性に選挙権が与えられた。  
ウ 韓国を併合して植民地とし、朝鮮総督府を設置した。  
エ 朝鮮や中国東北部の支配をめぐり、日本とロシアの間で戦争となった。

(13) 下線部⑬に関して、次のア～カのできごとを年代順（古い順）に並べ替えた場合、4 番目となるものを選び、記号で答えなさい。

- ア 小泉純一郎首相が、国が行っていた郵政事業を民営化した。  
イ 犬養毅首相が、海軍の青年将校らの手によって暗殺された。  
ウ 田中角栄首相が中国を訪問し、日中共同声明によって中国との国交を正常化させた。  
エ 地価や株価が値上がりし、ふくれあがった経済は「バブル経済」と呼ばれた。  
オ 日本と 48 か国がサンフランシスコ平和条約を結び、日本は国際社会に復帰した。  
カ 日本がハワイの真珠湾にあるアメリカ軍基地を攻撃した。

- ③ 次の表には「日本国憲法」の構成（どのような内容から作られているか）が書かれています。表を参考にして、あとの各問いに答えなさい。

【 日本国憲法の構成 】

前文

1 章

①天皇について（第 1 条～第 8 条）

2 章

②戦争の放棄について（第 9 条）

3 章

③国民の権利および義務について  
（第 10 条～第 40 条）

4 章

④国会について（第 41 条～第 64 条）

5 章

⑤内閣について（第 65 条～第 75 条）

6 章

⑥司法について（第 76 条～第 82 条）

7 章

⑦財政について（第 83 条～第 91 条）

8 章

⑧地方自治について（第 92 条～第 95 条）

9 章

憲法改正について（第 96 条）

10 章

最高法規について（第 97 条～第 99 条）

11 章

補則（第 100 条～第 103 条）



(1) 表中の下線部①について、「日本国憲法」では、第1条で天皇の立場が定められています。次の文中の  にあてはまる語句を漢字で答えなさい。

日本国憲法 第1条

天皇は、日本国の  であり日本国民統合の  であつて、この地位は、主権の存する日本国民の総意に基く。

(2) 表中の下線部②について、「日本国憲法」では、第9条で世界平和のための日本国の立場が定められています。それに関連して次の文中  と  に入る語句の組み合わせとして正しいものを、あとのア～エから1つ選び、記号で答えなさい。

図1は  廃絶を訴えているポスターです。また図2の  大統領はアメリカ大統領として初めて広島訪問を果たし、  廃絶を宣言した人です。



(図1) JAGDA HP より



(図2) 朝日新聞デジタル

	A	B
ア	核兵器	ブッシュ
イ	生物兵器	トランプ
ウ	核兵器	オバマ
エ	生物兵器	バイデン

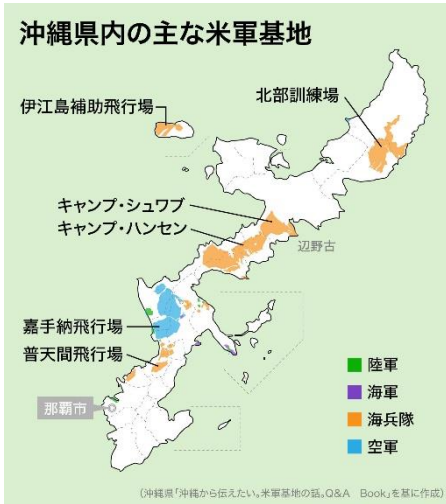
(3) 表中の下線部③に関連して、私たちは誰もが生まれつき持っている権利として「基本的人権」があります。人間なら誰でも持っている基本的人権が守られている例としてあてはまらないものを次の中から1つ選び、記号で答えなさい。

- ア 親が医者だからといって、自分が必ず医者になる必要はない。
- イ 女性は家庭のことを手伝う必要があるので、高等教育を受けられない。
- ウ 病気などで働くことができない人に対して、国が最低限度の生活を保障する。
- エ 大学では自分の好きなフランス語・ドイツ語・中国語を学ぶことができる。

(4) 表中の下線部④に関連して、国会では選挙で選ばれた国会議員が、衆議院と参議院の二つの議院で話し合いを行います。2021年10月に行われた衆議院選挙での衆議院の議員定数として正しいものを次の中から1つ選び、記号で答えなさい。

- ア 245人            イ 248人            ウ 465人            エ 475人

(5) 表中の下線部⑤に関連して、外国と条約を結ぶことは内閣のしごとです。1951年に日本とアメリカ合衆国との間で「日米安全保障条約」が結ばれてからアメリカ軍の日本駐留ちゅうりゅうが認められています。沖縄県における米軍基地の設置状況について次の資料A～Cから読み取れることとして正しいものを、あとのア～エから1つ選び、記号で答えなさい。

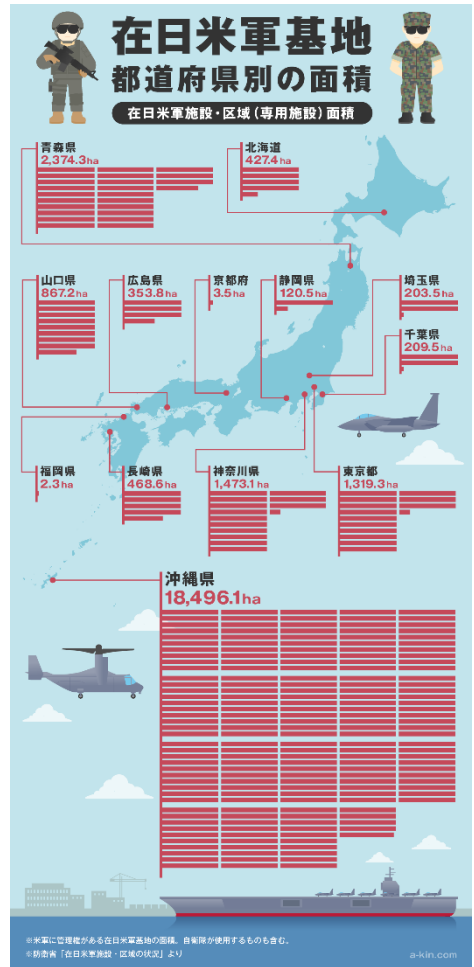


資料 A

軍別施設数・面積・軍人数

区分	施設数	構成比(%)	面積(千㎡)	構成比(%)	軍人数(人)	構成比(%)
海兵隊	13	39.4	135,501	69.7	15,365	57.2
空軍	7	21.2	20,733	11.1	6,772	25.2
海軍	5	15.2	2,645	1.4	3,199	11.9
陸軍	3	9.1	3,731	2	1,547	5.8
共用	4	12.1	29,232	15.6	—	—
その他	1	3	254	0.1	—	—
合計	33	100.0	187,099	100.0	26,883	100.0

資料 B



資料 C

資料 A : 「沖縄から伝えたい。米軍基地の話。Q&A BOOK」(H29 年版) をもとに Yahoo!JAPAN 作成

資料 B : 沖縄県 HP 沖縄の米軍及び自衛隊基地(統計資料集) H30 年 3 月時点

資料 C : 防衛省 HP 在日米軍施設・区域の状況(H30 年 3 月時点) よりアーキンデザイン研究所 作成

- ア 在日米軍基地の約 7 割が沖縄県に集中している。
- イ 沖縄県の米軍基地は飛行場もあることから空軍の面積が最も大きい。
- ウ 沖縄本島南部に米軍基地が集中している。
- エ 日本の都・府にはすべて米軍基地が設置されている。

(6) 表中の下線部⑥に関連して、日本の裁判所では判決に納得できない場合は、上級の裁判所に訴えることができます。原則1つの案件につき裁判を受けることができる回数として正しいものを次の中から1つ選び、記号で答えなさい。

ア 2回                      イ 3回                      ウ 4回                      エ 5回

(7) 表中の下線部⑦に関連して、国の歳入（収入）は私たち国民が納める税金が大半を占めています。財源のひとつである消費税について次の文を読んで **A** と **B** に入る語句の組み合わせとして正しいものを、あとの表中ア～エから1つ選び、記号で答えなさい。

みやぎくんは自分と友だちのお昼ご飯を買うためにタコス屋さんに行きました。そこでちょうどお昼時間になったので、みやぎくんは自分のぶんのタコスをお店の中で食べて、友だちのぶんをテイクアウト（持ち帰り）することにしました。すると同じタコスを5ピースずつ買ったのに、みやぎくんのタコスは550円、友だちのタコスは540円と支払う金額が変わりました。これはテイクアウト商品が **A** の対象であり、消費税が低く抑えられているためだとわかりました。タコス1ピース100円だったので、通常の消費税とくらべると **B** パーセント低く抑えられていることになります。

	A	B
ア	累進課税	8%
イ	累進課税	2%
ウ	軽減税率	8%
エ	軽減税率	2%

(8) 表中の下線部⑧に関連して、「地域のことはそこに住む人々が決めよう」という考え方のもと地方自治は行われています。次の文を読み、にあてはまる語句を、あとのア～エから1つ選び、記号で答えなさい。

2010年、「大阪維新の会」という地域政党から、政令指定都市の大阪市を廃止し、東京都が採用している「都区制度」に変更しようという「大阪都構想」案が提案されました。2015年には当時の大阪市長だった橋下徹氏が「大阪都構想」を進めるため、大阪市を5つの行政区に分けることの是非を問うを行いました。

ア 監査請求      イ 住民投票      ウ 議会の解散      エ 予算の作成

(9) ここまで【 日本国憲法の構成 】の表を参考に関連することをみてきましたが、そもそも日本国憲法はいつ誕生し、いつからその効力を有するようになったのでしょうか。それについて次の文中とに入る語句の組み合わせとして正しいものを、あとの表中ア～エから1つ選び、記号で答えなさい。

日本国憲法は1946年に公布、半年後の1947年に施行されました。

	A	B
ア	2月11日	8月11日
イ	8月11日	2月11日
ウ	11月3日	5月3日
エ	5月3日	11月3日

- 4 課題文を読み、作文を書きなさい。  
( 解答らんは解答用紙裏面です )

課題文

沖縄は 1972 年 5 月 15 日に日本へ復帰して今年で 50 年になります。復帰以前の沖縄は、自動車が右側を通行し、お金は円ではなくドルを使って生活していました。しかし 50 年たった今も変わらず、沖縄の伝統や文化は引き継がれているものもあります。

そこで 50 年後の 2072 年の「沖縄」を想像し、50 年後に変わると予想するもの【A】と、変わらないと予想するもの【B】を 1 つずつ答え、そう考えた理由をそれぞれ 100 字以内で説明しなさい。



1970 年前後の那覇市の国際通り