

令和5年度 興南中学校 入学試験問題

前期

社会

令和5年1月7日（土）実施 45分／100点満点

受験上の注意

1. 試験開始の合図があるまで、この問題用紙は開かないようにして下さい。
解答用紙は別になっています。
2. 問題は **1** ～ **4** まで4題あります。
3. 試験時間は45分です。
4. 解答は解答用紙の所定のところに記入して下さい。
5. 解答用紙には、受験番号、小学校名、氏名を必ず記入して下さい。
6. 試験終了後、問題用紙は持ち帰って下さい。

1 次の A～J は、原動機付自転車（原付バイク）のご当地ナンバープレートを採用している 10 市の説明文です。あとの各問いに答えなさい。

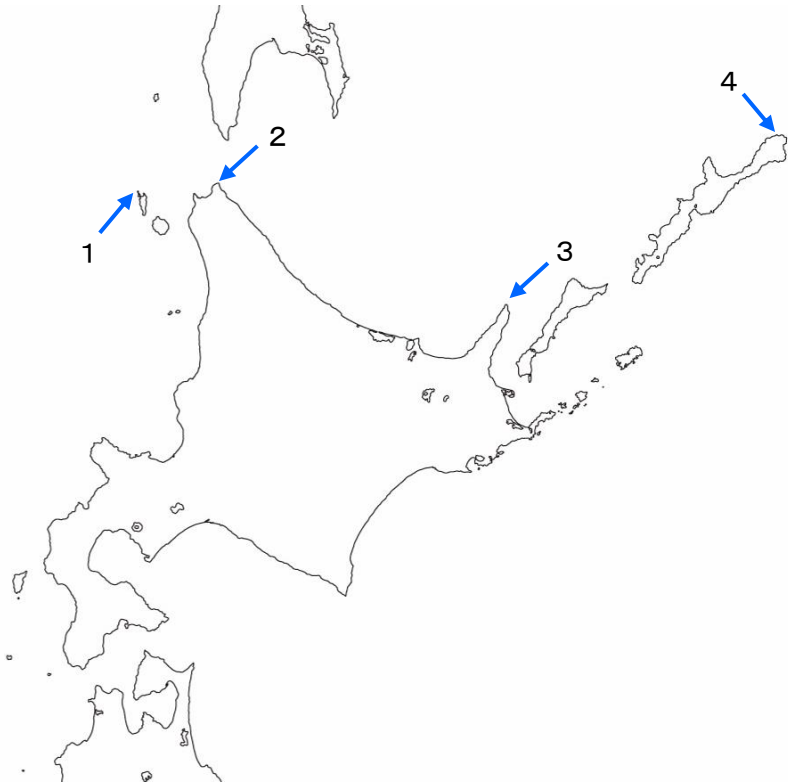
A		<p style="text-align: center;">北海道 稚内市</p> <p>稚内市は、東にはオホーツク海、西には日本海に面する宗谷地方の中心都市で、①宗谷岬からわずか 43km の地にロシア連邦サハリン州（旧樺太）の島影を望む国境のまちです。</p>
B		<p style="text-align: center;">秋田県 横手市</p> <p>②横手市は、東には <input type="text" value="ア"/>、西には出羽山地など山に囲まれた横手盆地にあるまちです。農業に適した平地のため、農産物が豊富なことでも有名です。また冬の風物詩、「かまくら」でも知られています。</p>
C	<p>著作権の都合上、省略</p>	<p style="text-align: center;">福島県 須賀川市</p> <p>③須賀川市は、高速道路や鉄道網が通り、さらに空港を有するなど交通網に恵まれたまちです。また、特撮の神様と称される円谷英二監督の出身地であることから、ウルトラマンの故郷「M78 星雲 光の国」と姉妹都市を提携しています。</p>
D		<p style="text-align: center;">茨城県 土浦市</p> <p>土浦市は、江戸時代に城下町として発展したまちです。旧水戸街道の宿場町としても知られ、また日本で 2 番目に大きい湖 <input type="text" value="イ"/> に面することから、水陸交通の拠点として栄えてきました。</p>
E		<p style="text-align: center;">静岡県 浜松市</p> <p>東京と大阪のほぼ中央に位置する④浜松市は、その地理的条件と豊富な水資源などに恵まれ、古くから「ものづくり」がさかんなまちです。繊維、楽器、輸送用機器の三大産業がめざましく成長し、日本有数の工業都市としても知られています。</p>

F		<p style="text-align: center;">兵庫県 ウ市</p> <p>兵庫県の県庁所在地であるウ市は、平清盛の時代から栄えてきた港を中心に発展してきた日本を代表する大都市であり、海と山、そして、美しい田園に恵まれた多様性のあるまちです。</p>
G		<p style="text-align: center;">広島県 はつかいち 甘日市市</p> <p>甘日市市は、<u>◎世界遺産「島島</u>」をはじめ、歴史・文化・交流など多彩な魅力や資源があふれるまちです。また、けん玉の発祥地であることから、平成26年度以降、けん玉の世界大会であるけん玉ワールドカップが市内で開催されています。</p>
H		<p style="text-align: center;">高知県 とさしみず 土佐清水市</p> <p>四国の最南端に位置する土佐清水市は、足摺岬をはじめ、自然が織りなすダイナミックな景観が続くまちです。雄大な自然を生かした<u>①一次産業</u>と観光産業が中心で、特に「清水さば」が有名です。</p>
I		<p style="text-align: center;">長崎県 つしま 対馬市</p> <p><u>⑧対馬市</u>は、九州と朝鮮半島の間うの対馬海峡に浮かぶ島にあるまちです。対馬全体の約9割が山地であり、国の天然記念物ツシマヤマネコ、ツシマテン、アキマドボタルなど大陸の影響を色濃く受けた独特な生態系を有しています。</p>
J		<p style="text-align: center;">沖縄県 なんじょう 南城市</p> <p>市域が「ハートの形」をしている南城市は、<u>⑩1町3村の合併</u>により誕生したまちです。南城市はハートをコンセプトにし、地域活性化の起爆剤として南城市のゆるキャラ「なんじい」が誕生するなど、<u>①観光地</u>としても移住先としても近年注目されています。</p>

(画像：日経研調べご当地プレートホームページより引用)

(1) 下線部②の位置として正しいものを、次の地図 I 中 1～4 の中から 1 つ選び、記号で答えなさい。

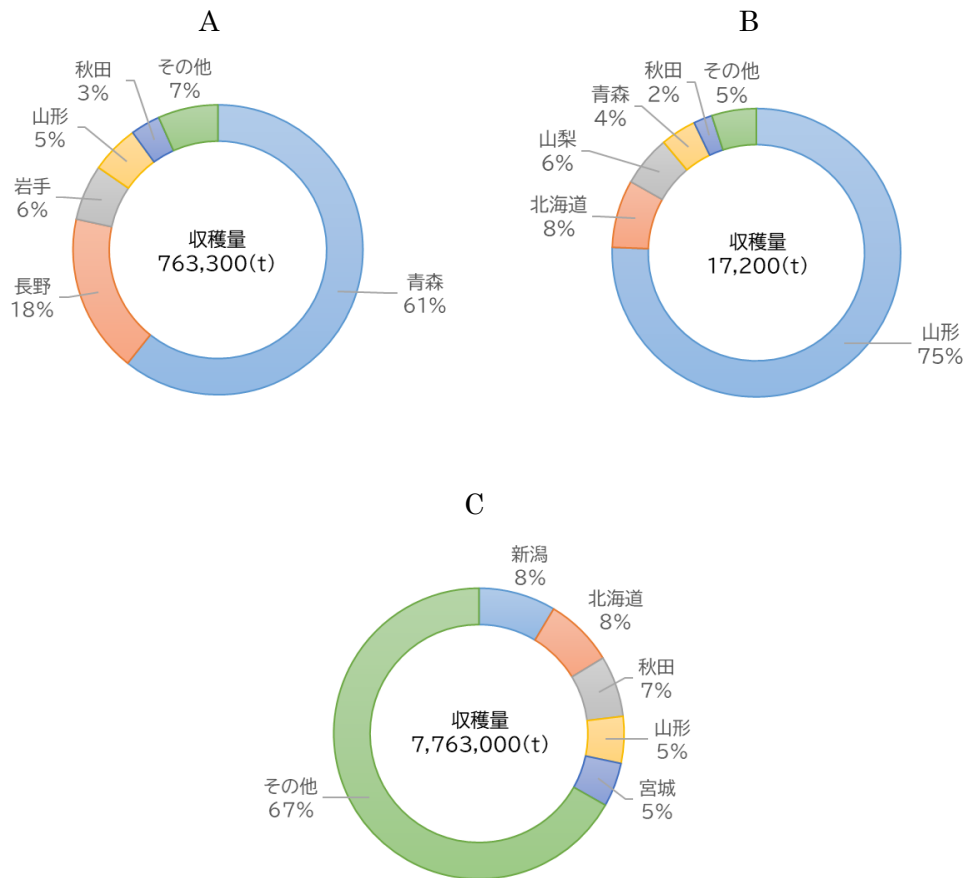
地図 I



(2) 説明文 B の文中 ア は、東北地方の中央部をほぼ南北に走る日本最長の山脈として知られています。ア にあてはまる語句として正しいものを、次の 1～4 の中から 1 つ選び、記号で答えなさい。

- 1 えちご 越後山脈 2 おうう 奥羽山脈 3 きそ 木曾山脈 4 ひだか 日高山脈

(3) 下線部⑥は農業がさかんな地域です。次のA～Cは「さくらんぼ・^{すいとう}水稲(コメ)・りんご」の令和2年度^{しゅうかくりょう}収穫量の上位5位までをしめした円グラフです。各農産物の組み合わせとして正しいものを、あとの表中1～6の中から1つ選び、記号で答えなさい。

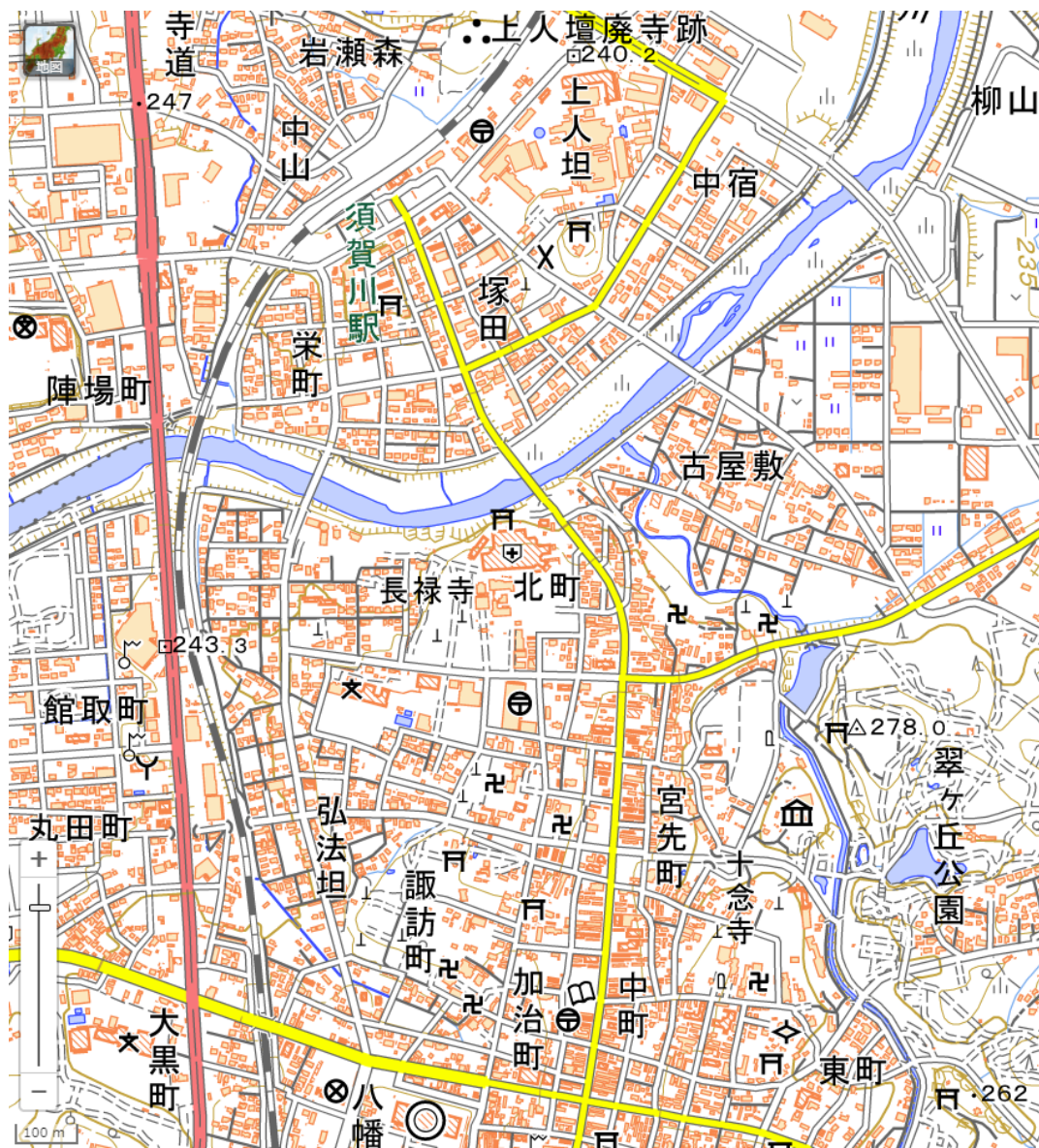


(e-Stat 政府統計の総合窓口「作物統計調査」より作成)

	A	B	C
1	さくらんぼ	水稲(コメ)	りんご
2	さくらんぼ	りんご	水稲(コメ)
3	水稲(コメ)	さくらんぼ	りんご
4	水稲(コメ)	りんご	さくらんぼ
5	りんご	さくらんぼ	水稲(コメ)
6	りんご	水稲(コメ)	さくらんぼ

(4) 下線部◎の範囲をしめした次の地図Ⅱから読み取れる内容として誤っているものを、あとの1～4の中から1つ選び、記号で答えなさい。

地図Ⅱ



(「国土地理院 地理院地図」より引用)

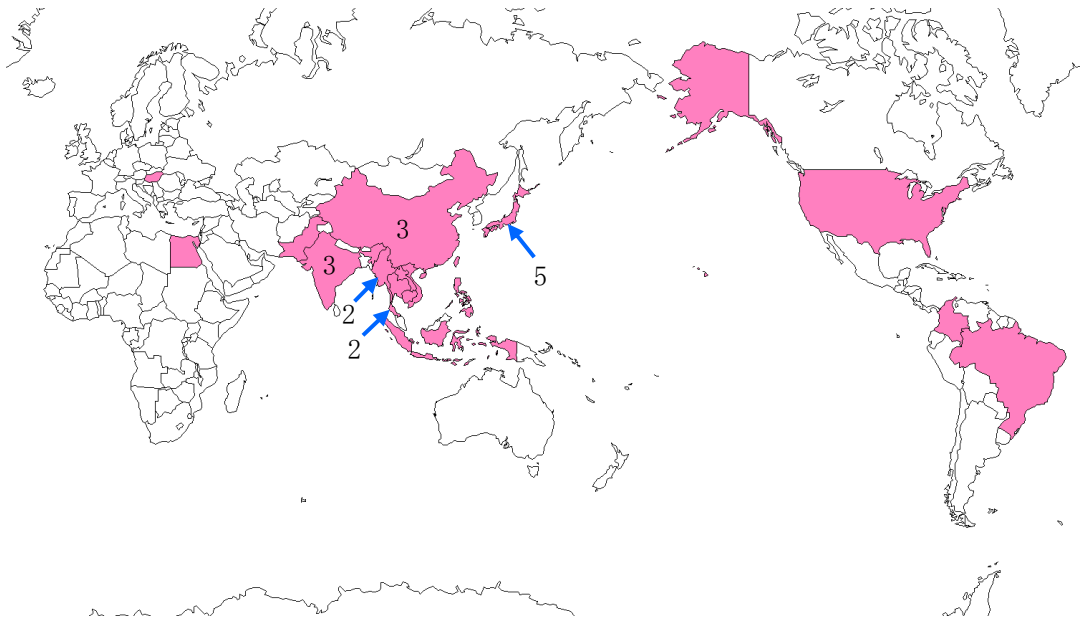
- 1 「加治町」の周辺には、郵便局や図書館が立地している。
- 2 「十念寺」の周辺には、複数の墓地や寺院、博物館が立地している。
- 3 「上人坦」の周辺には、神社や交番が立地している。
- 4 「翠ヶ丘公園」の周辺には、針葉樹林や果樹園が立地している。

(5) 説明文Dの文中 イ にあてはまる語句として正しいものを、次の1～4の中から1つ選び、記号で答えなさい。

- 1 いなわしろ 猪苗代湖 2 かすみ が うら 霞ヶ浦 3 サロマ湖 4 びわ 琵琶湖

(6) 下線部①に本社を置く輸送用機器メーカーの生産拠点は、日本国内だけでなく、世界各国に展開しています。次の地図Ⅲは、2022年7月末現在、生産工場がある国をしめたものです。この図から読み取れる内容として誤っているものを、あとの1～4の中から1つ選び、記号で答えなさい。

地図Ⅲ



※図中の数字は、生産工場の数をしめす。無記入は1か所のみ。

(スズキ株式会社ホームページより作成)

- 1 生産工場がある国の多くは、北半球に位置している。
- 2 生産工場が複数ある国は、いずれもアジア州に属する国や地域である。
- 3 オセアニア州全体でみると、いずれの国も生産工場が1つもない。
- 4 南北アメリカでみると、生産工場は4か所ある。

(7) 説明文 F の文中 にあてはまる都市名を漢字で答えなさい。

(8) 下線部㉔に位置する神社として正しいものを、次の 1～4 の中から 1 つ選び、記号で答えなさい。

- 1 いつくしま 巖島神社 2 おおみわ 大神神社 3 とがくし 戸隠神社 4 やすくに 靖国神社

(9) 下線部㉕に関連して、「かつおのたたき」が高知県の郷土料理として知られているように、高知県ではかつおいっぽんづり一本釣など様々な漁業が営まれています。次の表は、かつおの都道府県別漁獲量上位 6 都道府県を表にしたものです。表中 にあてはまる都道府県名を漢字で答えなさい。

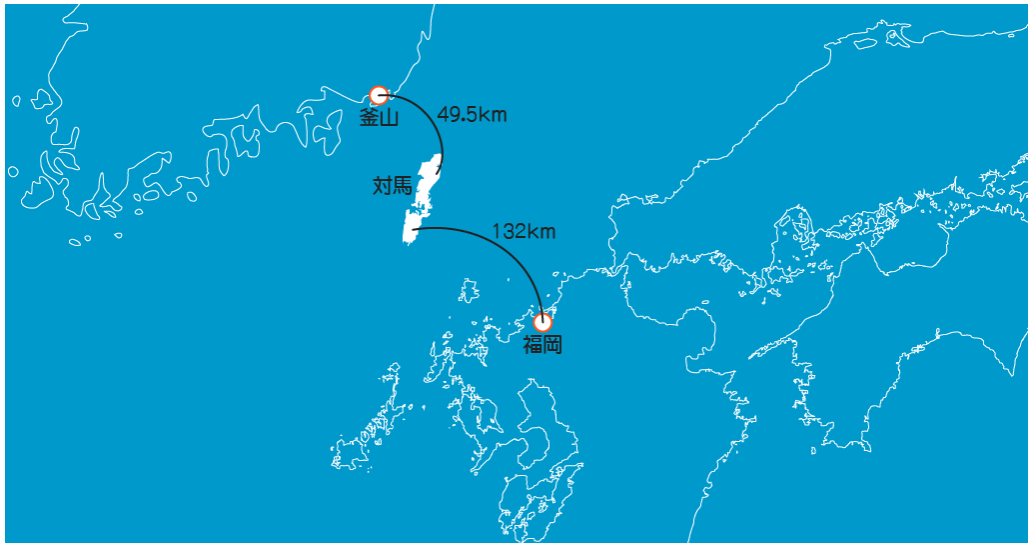
	都道府県名	収穫量 (t)	割合 (%)
1 位	<input type="text" value="エ"/>	83,600	37.3
2 位	宮城県	21,000	9.4
3 位	三重県	18,700	8.3
4 位	宮崎県	18,000	8.0
5 位	東京都	17,400	7.8
6 位	高知県	14,800	6.6

(農林水産省「令和 3 年漁業・養殖業生産統計」より作成)

- (10) 下線部㉔に関連して、次の文中 オ にあてはまる語句として正しいものを、あとの1～4の中から1つ選び、記号で答えなさい。

対馬市へのアクセス

島外の交通は、航空路と海路がある。航空路は対馬やまねこ空港から福岡空港・長崎空港へそれぞれ就航し、海路はいづはら厳原港からはかた博多港に高速船とフェリーが、ひたかつ比田勝港から博多港にフェリーが、フサン厳原港・比田勝港から オ の釜山に高速船が、それぞれ運航している。



(対馬市ホームページを一部改編)

- | | |
|-----------|---------------|
| 1 大韓民国 | 2 朝鮮民主主義人民共和国 |
| 3 中華人民共和国 | 4 ロシア連邦 |

(11) 下線部⑩に関連して、次の文中「カ」にあてはまる語句として正しいものを、あとの1～4の中から1つ選び、記号で答えなさい。

南城市は、2006年1月1日に、1町3村（「カ」町・知念村・玉城村・大里村）の合併により誕生しました。

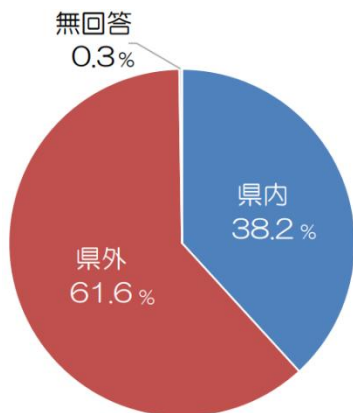


(南城市ホームページを一部改編)

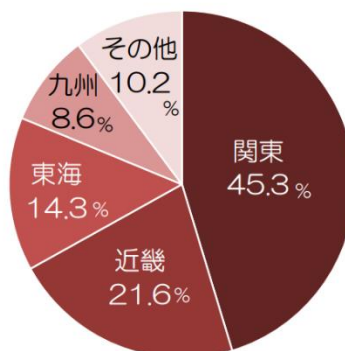
- 1 勝連 2 嘉手納 3 佐敷 4 与那国

(12) 下線部⑪に関連して、次の資料Ⅰ～Ⅲは、令和2年度に南城市が実施した観光客アンケートの調査結果です。これらの資料を見て、11ページのX～Zの文が正しいなら「正」、誤っているなら「誤」と記した正誤表の組み合わせとして正しいものを、あとの表中1～6の中から1つ選び、記号で答えなさい。

資料Ⅰ：観光客アンケート回答者の居住地

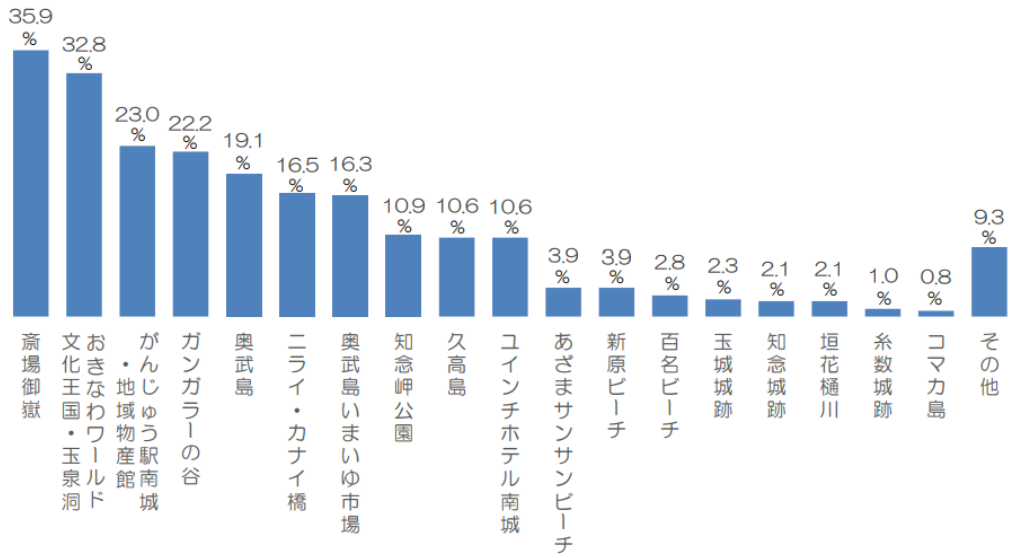


回答者の居住地

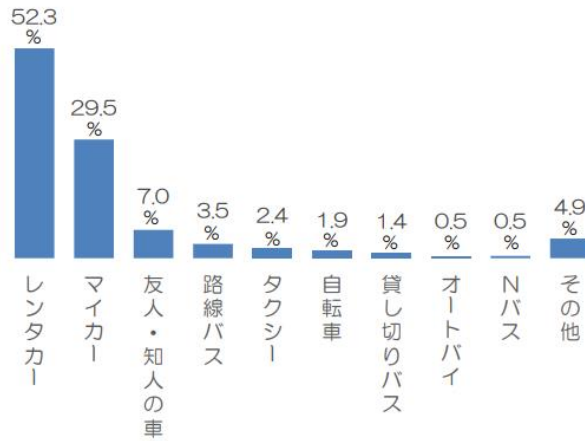


回答者（県外客）の居住地

資料Ⅱ：訪問した観光施設



資料Ⅲ：利用した交通手段



※Nバス…南城市内線

(南城市ホームページ「令和2年度観光客アンケート結果」より一部改編)

- X 資料Ⅰを見てみると、南城市を訪問した観光客は県内客より県外客が多いこと、県外客の居住地では「関東」・「近畿」・「東海」を合わせて8割を超えていることから、観光客の多くは東京23区や大阪市、仙台市など大都市の居住者であることがわかる。
- Y 資料Ⅱを見てみると、「せーふうたき斎場御嶽」や「おきなわワールド文化王国・ぎよくせん玉泉洞」が3割を超えていること、「あざまサンサンビーチ」や「新原ビーチ」、「百名ビーチ」が1割未満であることから、海水浴を目的とした観光がひかくてき比較的少ないことがわかる。
- Z 資料Ⅲの「マイカー」利用者が29.5%というデータと、資料Ⅰの「県内」が38.2%というデータから、沖縄県内の観光客は自家用車以外の交通手段も利用していることが考えられる。ただし県内観光客は、それぞれどの交通手段を利用していたのかまでは資料Ⅰ～Ⅲだけでは読み取ることができない。

表

	X	Y	Z
1	正	正	正
2	正	正	誤
3	正	誤	誤
4	誤	誤	誤
5	誤	正	誤
6	誤	正	正

2 次の文を読み、あとの各問いに答えなさい。

人類は①紀元前のむかしから、さまざまな感染症と戦ってきました。原因も治療も確立していなかった時代には、感染症の流行は歴史に大きな影響を与えてきました。19世紀後半になると、感染症をもたらす病原体や対処方法がわかってきたこともあり、感染症による死亡者数は減少しました。しかし1970年頃から、これまで知られていなかった新たな感染症である「新興感染症」や、過去に流行し再び出現した感染症である「再興感染症」が問題となっています。

人類を脅かしてきた感染症の一つに「天然痘」があります。天然痘は、ウイルスが飛沫によって感染し、発熱の後に発疹（ぶつぶつ）が身体に発生し、「あばた」とよばれるあとが残ります。古くは紀元前の②エジプトのミイラにもそのあとが見られます。その後も世界各地で猛威を振るい、流行時には数万から数百万人の死者が出たとの記録もあります。日本でも古代から何度も流行し、多くの死者が出ました。例えば③8世紀には都で流行し、当時の権力者も倒れました。他にも④鎌倉幕府の将軍や戦国大名、明治時代の文豪にも、あばたや後遺症があったそうです。天然痘は18世紀の終わりに、イギリスの研究者によって人類初のワクチンが開発され、その流行は落ち着きました。その後、世界各地で感染者がいなくなり、1980年に世界保健機関（WHO）は天然痘が地球上からなくなったと宣言しました。人類が勝利した唯一の感染症です。

世界中で恐れられた感染症としては「ペスト」も挙げられます。ペストは、ペスト菌という細菌をもつ昆虫や小動物と接触してヒトに感染します。場合によってはヒトからヒトへ感染します。感染すると、激しい頭痛・発熱のほか、皮膚が内出血により黒くなることから「黒死病」とも呼ばれ、これまで何度かの世界的大流行がありました。6世紀のヨーロッパでは東ローマ帝国が栄えていましたが、その⑤首都でペストが流行し、最大で1日1万人の死者が出たといわれています。14世紀には中国からヨーロッパにかけて大流行し、ヨーロッパでは全人口の3分の1にあたる2500万人が死亡したと推計されています。国によっては人口が50～80%減ったともいわれ、⑥支配する者とされる者の関係がくずれ、歴史に大きな影響を与えました。日本では⑦明治時代以前の発生は確認されていませんが、それ以降は何度かの流行がありました。19世紀にホンコンで流行があった際に、日本政府は医学者の⑧北里柴三郎を派遣して調査にあたらせました。北里は消毒が有効な感染症対策であることやネズミが病原菌をもたらすことを突きとめ、感染対策を講じた結果、世界中で流行がおさまっていきまし

た。しかし、いまだワクチンが開発されておらず、近年でもアジア・アフリカ各国で数百から数千件の感染が発生しています。

さらに、世界中で恐れられ、かつ私たちの身近にある感染症として「インフルエンザ」が挙げられます。インフルエンザは、感染すると高熱・頭痛・筋肉痛を発症します。強い感染力を持つウイルスを病原とし、毎年世界各地で大小の流行が見られます。1918年から①1919年にかけての流行は「スペインかぜ」と呼ばれ、4000万人から5000万人が1年以内に死亡し、歴史上最も壊滅的^{かいめつ}な流行の一つとなりました。日本では、古くは①862年に近畿地方でインフルエンザらしき病気が流行したとの記述があり、②江戸時代には何度も全国的流行となっています。

上記以外にも、私たち人類を脅かしてきた感染症は多くあります。今まさに流行中の新型コロナも、私たちを恐怖^{きょうふ}におとしめています。しかし、ウイルスや症状についての研究がすすみ、その正体が見えてきて、私たちは必要以上に恐れなくなりました。私たちはこれからも研究をすすめ、正しい知識に基づき、多くの感染症と戦い続けていく必要があるでしょう。その際に、過去の人々がどのように感染症と戦ったかということも知るべきではないでしょうか。

(大幸薬品ホームページ、国立感染症研究所ホームページを参考に作成)

(1) 下線部㉔は「西暦」という歴史年代表記です。これは、イエス・キリストが生まれたとされる年を「紀元 1 年」とし、それ以前を「紀元前〇〇年」と数えます。現在は西暦 2023 年です。また、西暦の 100 年間を「世紀」という 1 つの単位として数える年代表記もあります。キリストが生まれたとされる年から西暦 100 年までを 1 世紀、西暦 101 年から 200 年までを 2 世紀とします。以上をふまえて述べた文として正しいものを次の 1～4 の中から 1 つ選び、記号で答えなさい。正しいものがなければ 5 と答えなさい。

- 1 青森県の三内丸山遺跡が集落として栄えていた紀元前 3000 年頃は、今から約 3000 年前である。
- 2 藤原道長が栄華をきわめた 1010～1020 年代は、10 世紀である。
- 3 関ヶ原の戦いがおこった 1600 年は、16 世紀である。
- 4 19 世紀の初めごろの 1902 年に、日本はイギリスと同盟を結んだ。

(2) 下線部㉕に関連して、古代エジプト文明を生みだした河川として正しいものを次の 1～4 の中から 1 つ選び、記号で答えなさい。

- 1 アマゾン川 2 インダス川 3 ミシシッピ川 4 ナイル川

(3) 下線部㉔に関連して、聖武天皇は仏教の力で疫病えきびょうの流行たいこうに対抗しようとした。聖武天皇が造らせた仏教寺院を次の1～4の中から1つ選び、記号で答えなさい。

1 法隆寺



2 東大寺



3 唐招提寺



4 興福寺



(4) 下線部㉕にあてはまらない人物を次の1～4の中から1つ選び、記号で答えなさい。

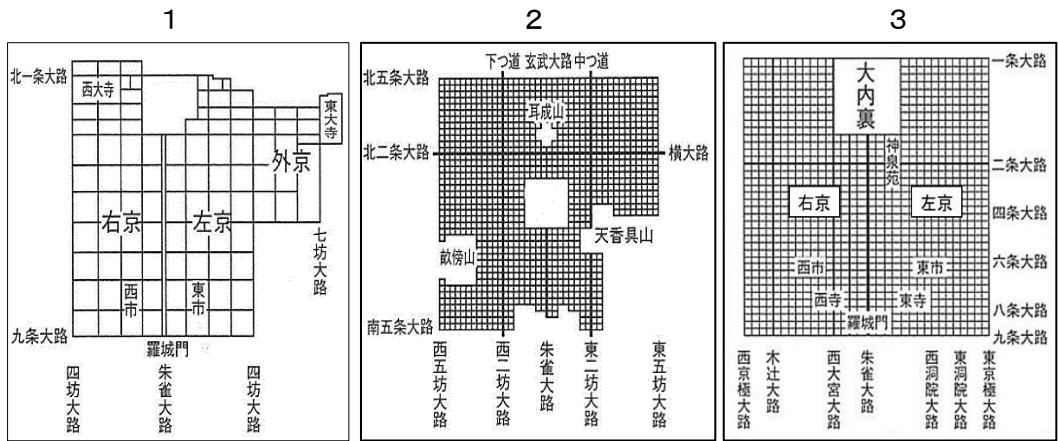
1 井原西鶴

2 源頼朝

3 伊達政宗

4 夏目漱石

(5) 下線部㉔に関連して、日本の「都」であった平安京を表した図として正しいものを、次の1～3の中から1つ選び、記号で答えなさい。



(6) 下線部㉕についての歴史的事実として誤っているものを次の1～4から1つ選び、記号で答えなさい。誤っているものがなければ、5と答えなさい。

- 1 邪馬台国の卑弥呼は、占いやまじないなどの力によって人々を従えた。
- 2 鎌倉幕府の将軍と御家人は、土地をなかだちとする主従関係で結ばれていた。
- 3 農民が中心となって支配者に反抗する一揆^{いっき}が、江戸時代には各地で発生した。
- 4 第一次世界大戦に敗れた日本は、外国の植民地となって国家の主権を失った。

(7) 下線部㉖について述べた文として誤っているものを次の1～4の中から1つ選び、記号で答えなさい。誤っているものがなければ、5と答えなさい。

- 1 天皇の権限が強い大日本帝国憲法が制定された。
- 2 日清戦争に勝利し、多額の賠償金^{ばいしょうきん}を得ることとなった。
- 3 内閣制度が発足し、伊藤博文が初代の内閣総理大臣に就任した。
- 4 地租改正が行われ、納税方法が米からお金にかわった。

- (8) 下線部⑮の人物は、2024年から発行される新紙幣の千円札に描かれることが決まりました。新紙幣の一万円札に描かれる予定の右の人物名を漢字で答えなさい。



- (9) 下線部⑯に結ばれた第一次世界大戦の講和条約は、結ばれた場所にちなんで名づけられました。その名称として正しいものを次の1～4の中から1つ選び、記号で答えなさい。

- 1 ベルサイユ条約 2 下関条約 3 ポーツマス条約 4 北京条約

- (10) 下線部⑰以前に起こったできごとを次の1～4の中から1つ選び、記号で答えなさい。できごとがなければ、5と答えなさい。

- 1 足利義満が金閣を造らせた 2 『日本書紀』が完成した
3 平清盛が武士初の太政大臣となった 4 元軍が日本に二度攻めてきた

- (11) 下線部⑱に関連して、次のA～Dの江戸時代のできごとが起こった順に正しく並べられているものを、あとの1～4から1つ選び、記号で答えなさい。

- | | |
|-------------------|----------------|
| A 桜田門外の変で大老が暗殺される | B ペリーが浦賀に来航する |
| C 生類憐みの令が出される | D オランダ商館を出島に移す |

- 1 C → D → B → A 2 C → D → A → B
3 D → C → B → A 4 D → C → A → B

- (12) 本文から読み取れることを次の1～4の中から1つ選び、記号で答えなさい。

- 1 西暦1800年代の後半になるまで、ワクチンや特効薬は開発されなかった。
2 ペストが流行する以前のヨーロッパの全人口は、推計1億人以上であった。
3 歴史上の感染症を学ぶことで、今後の感染症対策に活かせることがある。
4 鎖国政策を行っていた頃の日本に、感染症が流入することはなかった。

③ 次の文を読み、あとの各問いに答えなさい。

「沖縄復帰 50 周年記念式典」式辞

はいさい、ぐすーよー ちゅううがなびら。みなさま、こんにちは。

本日ここに、①天皇皇后両陛下の御臨席を仰ぎ、政府との共催の下、沖縄復帰 50 周年記念式典を開催できますことは、等しく県民の慶びとするところであります。

岸田文雄内閣総理大臣、細田博之衆議院議長、山東昭子参議院議長、大谷直人②最高裁判所長官をはじめ、ラーム・エマニュエル駐日米国特命全権大使、平井伸治全国知事会会長、そして多数の御来賓の御臨席を賜り、沖縄県民を代表して心から感謝を申し上げます。

沖縄県は、日本本土と東アジア及び東南アジアの海域の中心に位置し、古くからアジア諸国との貿易で栄え、たくさんの国々との交流の中で、③多様性に富んだ独特の文化を育み、その歴史を刻んできました。

しかしながら、先の大戦においては凄惨極まる地上戦により、20 万人を超える尊い命だけではなく、貴重な文化財や県民の財産のほとんどが失われるなど、県民は耐えがたい苦難を経験しました。

その後、本土復帰までの 27 年間、サンフランシスコ講和条約が締結される等、米軍の施政権下にあった沖縄では、産業の発展は立ちおくれ、パスポート無しでは日本本土への渡航も許されない時代が続きましたが、県内外で沖縄の日本復帰を願う全ての方々の努力や、佐藤栄作元総理大臣をはじめとする政府関係者の皆様のご尽力が実り、50 年前の本日、昭和 47 年 5 月 15 日に日本復帰を果たしました。

1972 年からの 5 次に渡る沖縄振興計画等により、社会基盤の整備等によって本土との格差は縮小され、社会経済は着実に進展しました。

また、観光関連産業や情報通信産業等の成長が沖縄経済を牽引し、那覇空港第 2 滑走路の増設等、今後の沖縄の発展が益々期待されております。

他方、④一人当たりの県民所得は全国平均の水準に達しておらず、自立型経済の構築はなお道半ばにあるとともに、子どもの貧困や離島における不利性、⑤脆弱な産業構造など、依然として克服すべき多くの課題が残されています。

沖縄県では、平成 22 年に策定した将来のあるべき沖縄の姿を描いた「沖縄 21 世紀ビジョン」の実現に向け、令和 4 年度からの 10 年を期間とする「新・沖縄 21 世紀ビジョン基本計画」を策定しました。本計画を着実に推進し、本県の自立的発展と県民一人ひとりが豊かさを実感できる「誰一人取り残さない社会」の実現に向けて取り組ん

でまいる所存しょぞんであります。

他方、復帰から 50 年経った現在も、我が国の国土面積の 0.6 パーセントに過ぎない沖縄県に全国の在日米軍専用施設面積しせつの（ あ ）パーセントが集中し、米軍人・軍属による事件・事故そうおん、騒音かんきょう、環境汚染等おせん、県民は過重な基地負担を強いられ続けております。そのため、沖縄県は本土復帰にあたって沖縄県と政府が共有した「沖縄を平和の島とする」という目標が、復帰から 50 年経ってなお達成かんがされていないことに鑑み、復帰 50 周年の節目に「平和で豊かな沖縄の実現に向けた新たな建議書」を日本政府及び①衆参両議院へ建議するとともに、米国政府に対し協力を求めました。

政府におかれましては、沖縄の本土復帰の意義と重要性について国民全体の認識の共有を図っていただき、すべての県民が真に幸福を実感できる平和で豊かな沖縄の実現に向けて誠心誠意取り組んでいただきますようお願い申し上げます。

我わした「沖縄」には、大きな可能性せんざいりょくや潜在力が秘められています。

世界に誇る多様な自然環境を有しており、令和 3 年 7 月には「沖縄島北部及び西表島」が⑧世界自然遺産に登録されました。

点在する多数の島々からなる広大な海域は、日本の国土総面積ひってきに匹敵し、広大な海洋から得られる多様な資源と多大な恩恵おんけいは、新たな発展こうけんに貢献できる、独自の可能性を有しております。私たち沖縄県民は、子や孫たちのために、豊かな自然を守り、県民一人ひとりが生きがいを感じられ、人と人とのつながりとチムグクルを大切に、万国津梁ばんこくしんりょうの精神のもとアジア太平洋地域の持続的安定と平和こうけんに貢献し、我々県民が描く自立と自主性が尊重された「時代を切り拓き、世界と交流し、ともに支え合う平和で豊かな『美ら島』おきなわ」の未来に向かってさらに力強く邁進まいしんしてまいります。

結びに、天皇皇后両陛下ごけんしやうの御健勝と、皇室の弥栄を心から御祈念いやさか申し上げますとともに、岸田文雄⑨内閣総理大臣をはじめ、本日、沖縄会場並びに東京会場に御参列ごきねんいただいた皆様、（ い ）万沖縄県民の益々の幸せを願って、式辞といたします。

令和四年五月十五日

沖縄県知事 玉城デニー

(1) 文中の (あ) (い) にあてはまる数値の組み合わせとして、最も適当なものを次の 1～4 の中から 1 つ選び、記号で答えなさい。

	(あ)	(い)
1	70.3	122
2	70.3	146
3	90.2	122
4	90.2	146

(2) 下線部④に関連して、日本国憲法では第 1 条から第 8 条で天皇について定められています。次の各条文のア～ウにあてはまる語句の組み合わせとして正しいものを、あとの 1～8 の中から 1 つ選び、記号で答えなさい。

第一条 天皇は、日本国の (ア) であり日本国民統合の (ア) であつて、この地位は、主権の存する日本国民の総意に基く。

第三条 天皇の国事に関するすべての行為^{こうい}には、(イ) の助言と承認を必要とし、(イ) が、その責任を負ふ。

第四条 天皇は、この憲法の定める国事に関する行為のみを行ひ、国政に関する権能を (ウ)。

	ア	イ	ウ
1	主権者	国会	有しない
2	主権者	内閣	有しない
3	主権者	国会	有する
4	主権者	内閣	有する
5	象徴	国会	有しない
6	象徴	内閣	有しない
7	象徴	国会	有する
8	象徴	内閣	有する

(3) 下線部⑤に関連して、最高裁判所は「憲法の番人」とも言われています。それは、最高裁判所が最終的な権限を持つことに由来しています。最高裁判所が持つ権限とは何ですか。次の空らんにあてはまるように漢字で答えなさい。

				審	査	権
--	--	--	--	---	---	---

(4) 下線部③に関連して、次の A～D の写真からいずれか 1 つを選び、その写真を用いて沖縄の「多様性に富んだ独自の文化」を紹介する一文を書きなさい。
しょうかい

A



B



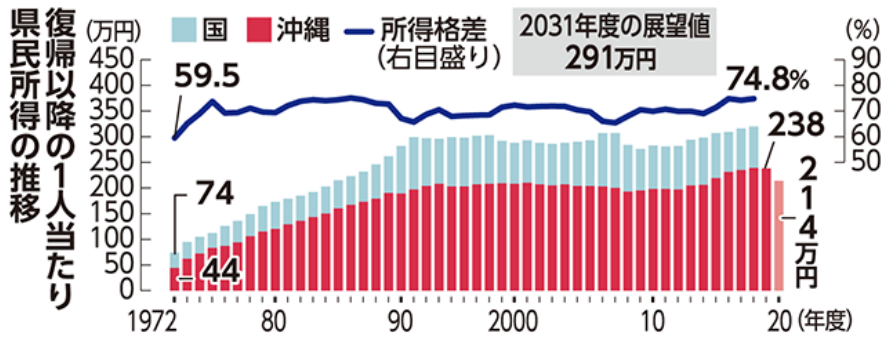
C



D



(5) 下線部㉔に関連して、次のグラフ中の2020年度の県民所得は、その前年と比べて大きく減少しています。その理由を説明しなさい。



(琉球新報デジタル 2022年4月2日の記事)

(6) 下線部㉔に関連して、沖縄県の産業の特徴のひとつとして、第2次産業の割合の小さいことがあげられます。あとの1~4にしめした沖縄の企業^{きぎょう}ロゴのうち、第2次産業にあてはまる企業を1つ選び、記号で答えなさい。

1

琉球ゴールデンキングス

著作権の都合上、ロゴ省略

2



3

PEOPLE S BANK



4



(7) 下線部㊦に関連して、日本国憲法に定められた国会のはたらきとして誤っているものを次の1～5の中からすべて選び、記号で答えなさい。

- 1 憲法改正を發議する
- 2 最高裁判所長官を任命する
- 3 条約を締結する
- 4 弾劾裁判所を設置する
- 5 法律を制定する

(8) 下線部㊧に関連して、国連教育科学文化機関（ユネスコ）は歴史的な建造物や貴重な自然を「世界遺産」として登録しています。登録されると、テレビや書籍などのメディアで大きく取り上げられ、その地域ではさまざまな影響が考えられます。それらの影響に関する説明として誤っているものを次の1～4の中から1つ選び、記号で答えなさい。

- 1 世界遺産に登録されると木材の需要が増大し、木材生産量が増加することによって森林減少につながる可能性がある。
- 2 世界遺産に登録されると観光客や観光消費額が増加し、地域の活性化につながる可能性がある。
- 3 世界遺産に登録されると観光客の増加にともなうごみのポイ捨てが増え、生態系の破壊につながる可能性がある。
- 4 世界遺産の登録地域周辺では、ホテルや商業施設の開発が進み、自然風景地の損失につながる可能性がある。

(9) 下線部⑩に関連して，日本国憲法に定められた内閣総理大臣の資格として正しいものを次の1～4の中から1つ選び，記号で答えなさい。

- 1 25歳^{さい}以上の男子でなければならない
- 2 衆議院議員でなければならない
- 3 参議院議員でなければならない
- 4 国会議員でなければならない

- 4 課題文を読み，作文を書きなさい。
(解答らんは解答用紙裏面です)

課題

「ペット（犬・猫）の金銭売買を禁止すべきである」という意見があります。

あなたはこの意見に賛成ですか，反対ですか。次の条件にしたがって書きなさい。

条件 1 文字数は 150 字以上，200 字以内とする。

条件 2 文章はいくつかの段落に分けて書くこと。その際，段落の頭で改行し，書き出しを 1 字下げて書くこと。

第一段落…賛成か反対か，問題のテーマについての立場を明らかにすること。

第二段落以降…その理由や理由を支える事実，経験などを書くこと。

条件 3 理由を述べる際は，必ず次の①・②のどちらかを使って書くこと。

①なぜなら～からです。たとえば～。

②理由は二つあります。一つは，～。もう一つは，～。(二点以上でも良い。)