

## 後期

# 社会 (45分 100点)

### <注意事項>

- ① 試験開始の合図があるまで、この問題用紙は開かないようにして下さい。解答用紙は別になっています。
- ② 問題は **1** ~ **4** まで4題あります。
- ③ 試験時間は45分です。
- ④ 解答用紙には、以下の例にならって受験番号、小学校名、氏名を必ず記入して下さい。

受験番号:1038 氏名:興南 太郎 出身小学校:〇〇〇〇小学校 の場合の記入例

のところへ記入して下さい。

得点(記入しないこと)	令和5年度 後期入試 〇〇 解答用紙	
氏名	興南 太郎	
(記入例)	出身小学校	〇〇〇〇 小学校
良い例	<input type="radio"/>	<input type="radio"/>
悪い例	<input type="radio"/>	<input type="radio"/>

番号	1	0	3	8
----	---	---	---	---

左から順に0~9がならんでいます

- ⑤ 解答は解答欄からはみ出さないように記入して下さい。また、解答欄以外には何も記入しないでください。
- ⑥ 試験終了後、問題用紙は持ち帰ってください。





1 次の文を読み、あとの各問いに答えなさい。

「100年、開かなかった扉が開いたので、多くの人の顔が浮かびました。準決勝、勝った段階で、本当に東北や宮城のみなさんからたくさんのメッセージをいただいて、本当に熱い思いを感じていたのです、それに応えられて何よりです」

2022年 夏の甲子園（全国高等学校野球選手権大会）仙台育英高校 須江監督の優勝インタビュー

第104回全国高等学校野球選手権大会は仙台育英（宮城県）が下関国際（山口県）に快勝。㉑東北勢がはばまれ続けた決勝の壁を「13度目の正直」で乗り越え春夏通算100校目の初優勝校となり、甲子園の優勝旗が㉒白河の関を越えました。

須江監督が2018年就任から掲げるスローガン「日本一からの招待」の下、東北を中心に集結した仙台育英ナインが躍動し、1915年第1回大会の秋田中学（現秋田高校）の準優勝から、108年目の夏に開かれなかった扉が開き「白河越え」を達成しました。須江監督のコメントは東北地方の人々の悲願であった深紅の優勝旗が白河の関を越え、東北の地に優勝旗を持ち帰ることができ、多くの人々の期待に応えられたうれしい気持ちがあらわれています。

春夏の甲子園を通じて㉓優勝回数と勝率が最も高いのが大阪府で優勝26回、勝率62.83%です。また、優勝回数では優勝19回の愛知県が2位で、勝率では神奈川県が62.02%が2位となっています。この㉔3府県は甲子園予選に参加する学校数が多く激戦区となっています。上記3府県以外では、参加校数は少ないものの伝統校や強豪校が毎年活躍している四国勢の勝率が高くなっています。また2000年代には、3年連続で㉕九州勢が選抜大会を優勝するなどの活躍も目立ちました。

一方、最も勝率が低いのは㉖新潟県で、次いで島根県、富山県、北海道、山形県と続いており、日本海側に多い傾向にあります。勝率が低い地域は雪の降る日が多く降雪量も多いため、冬場の練習環境が他地域に比べ厳しいことから、選抜大会での勝率が低くなる傾向にあると考えられています。近年は東北、北海道勢の活躍も目立ってきていますが、通算の勝率ではまだまだ低くなっています。

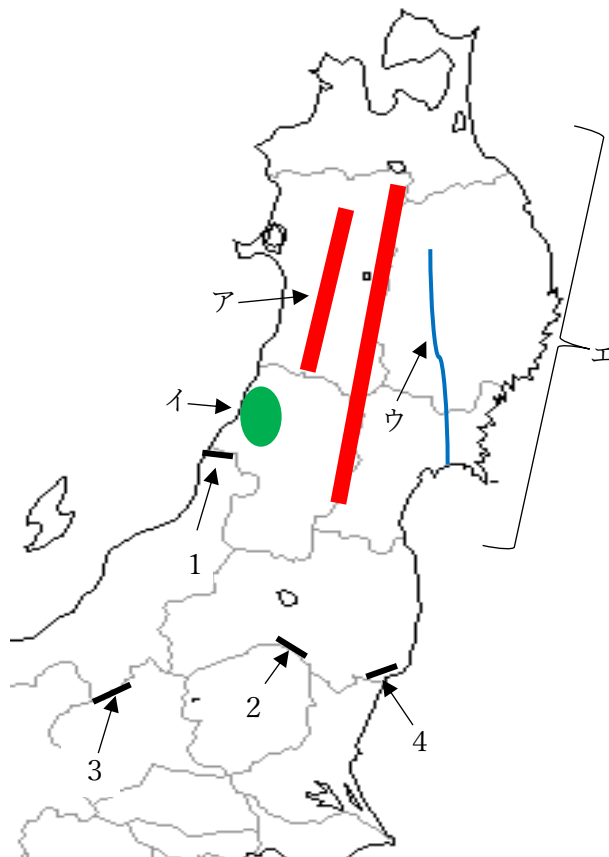
ただし、これは第1回大会から約100年間の傾向であり、㊤宮城県、青森県、岩手県が直近10年間の勝率50%を超え、勝率ベスト10に入るようになり、雪国のハンデを克服して優勝争いする高校も増えてきています。東北勢の優勝をきっかけにさまざまなハンデを克服し、今まで優勝したことのない地域の高校の優勝も期待できるのではないのでしょうか。

問題は次のページにつづきます

(1) 下線部④について、地図 I 中ア～ウの地名の組み合わせとして正しいものを次の 1～4 の中から 1 つ選び、記号で答えなさい。

	ア	イ	ウ
1	出羽山地	庄内平野	北上川
2	奥羽山脈	津軽平野	最上川
3	出羽山地	石狩平野	利根川
4	奥羽山脈	越後平野	信濃川

地図 I



(2) 下線部㉔について、地図 I 中のエの海岸とその周辺の様子について述べた文として誤っているものを次の 1～4 の中から 1 つ選び、記号で答えなさい。

- 1 この海岸の沖合には暖流と寒流がぶつかる潮目があり、好漁場となっている。沿岸部では日本有数の漁港が集まっている。
- 2 この海岸は海岸線が複雑なため、津波の被害が大きくなるので養殖漁業はほとんど行われていない。
- 3 この海岸は三陸海岸とよばれている。三陸とは陸奥・陸中・陸前という旧地名からその名がつけられた。
- 4 この海岸の南側はリアス海岸となっており、山地が海面下に沈んでできた海岸地形である。

(3) 下線部㉕について、次の先生とたかし君の会話文の  にあてはまるものを地図 I 中 1～4 の中から 1 つ選び、記号で答えなさい。

先生 : 甲子園の優勝旗が白河の関を超え、東北勢、悲願の優勝が話題になったね。

たかし君 : 悲願の「白河越え」とはどういうことですか。

先生 : 東北勢はこれまで何度も決勝戦に進出したが、甲子園での優勝がなく、陸路で優勝旗が白河の関を越える事が無かったんだよ。

たかし君 : ところで先生、白河の関とは何ですか。

先生 : 白河の関とは、5 世紀ごろに現在の栃木県と福島県との県境にあり、地図 I 中の  に設置された関所で「勿来なごの関」(福島県いわき市)、「念珠ねずヶ関」(山形県鶴岡市)とならぶ奥羽三古関の 1 つで、東北地方への玄関口だったんだよ。

たかし君 : そうなんですね。悲願だった「白河越え」を達成できて、東北の方々の喜びは大きかったのではないのでしょうか。

(4) 下線部◎について，次の地図Ⅱと表1をみて，たかし君が読み取った内容として正しいものを次ページの1～4の中から1つ選び，記号で答えなさい。

地図Ⅱ

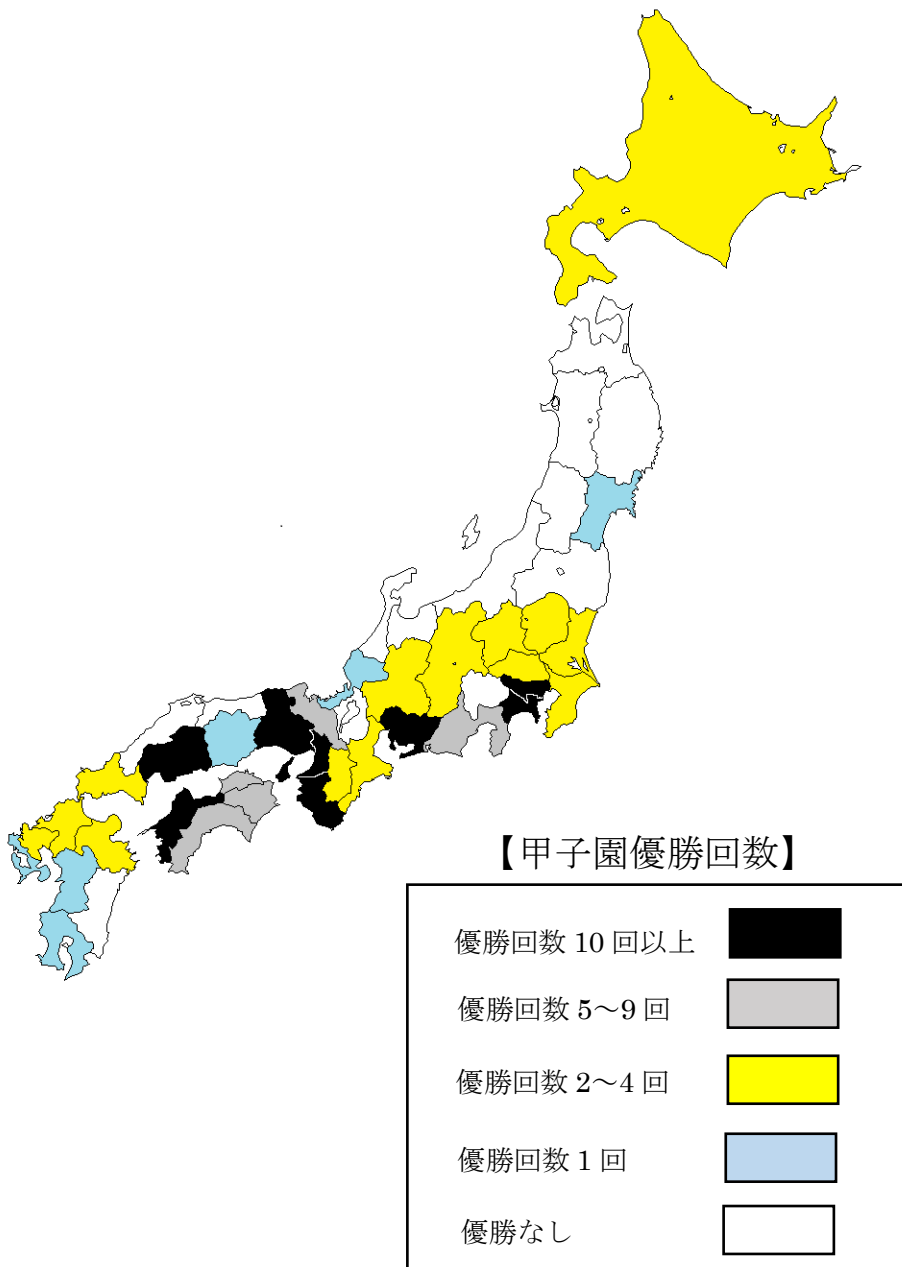




表 1

甲子園で勝率の高い都道府県ランキング			
1 位	大阪府	6 位	広島県
2 位	神奈川県	7 位	兵庫県
3 位	愛知県	8 位	徳島県
4 位	高知県	9 位	和歌山県
5 位	愛媛県	10 位	岐阜県

(高校スポーツデータ室 <http://highschoolsports.g1.xrea.com> を参照)

- 1 優勝回数 10 回以上の都道府県と勝率 10 位までの都道府県は、都道府県庁所在地がすべて政令指定都市になっている。
- 2 優勝経験のある都道府県はすべて太平洋側に面しており、四国においてはすべての県で 5 回以上の優勝があり、勝率の順位でも 10 位以内に入っている。
- 3 優勝回数 2 回以上の都道府県のなかで最も面積の大きな都道府県が北海道で最も面積の小さい県は香川県である。
- 4 優勝回数 5 回以上の都道府県と勝率 10 位までの都道府県はすべて一致している。

(5) 地図Ⅱをみて、次の文中 ( X ) と ( Y ) にあてはまる県名をそれぞれ漢字で答えなさい。

優勝なしの県の中で県名と県庁所在地名が異なる県が 5 県あります。その 5 県は東北地方の岩手県、中部地方の石川県と ( X ) 県、近畿地方の滋賀県、中国地方の島根県です。また、九州地方は 2008 年から 3 年連続で選抜大会を優勝するなど 2000 年代の活躍が目立ちました。現在、九州地方で優勝なしの県は ( Y ) 県のみとなっています。

(6) 下線部㊸について、次の表 2 の X～Z は、阪神工業地帯・中京工業地帯・京浜工業地帯の工業製品出荷額とその内訳をあらわしています。それぞれの工業地帯にあてはまる組み合わせとして正しいものを、あとの 1～6 から 1 つ選び、記号で答えなさい。

表 2

	総額 (兆円)	金属 (%)	機械 (%)	化学 (%)	食料品 (%)	繊維 (%)	その他 (%)
X	39.1	10.0	45.8	20.1	12.6	0.5	11.0
Y	57.5	9.4	69.6	10.8	4.6	0.8	4.8
Z	32.7	20.6	37.1	21.8	11.1	1.2	8.2

(工業統計調査 2018 年より作成)

	X	Y	Z
1	阪神	中京	京浜
2	中京	京浜	阪神
3	阪神	京浜	中京
4	中京	阪神	京浜
5	京浜	中京	阪神
6	京浜	阪神	中京

(7) 下線部㊸について、次の表 3 は九州地方の県の人口と農業出荷額割合の内訳をしめたものです。あとの九州地方の農業についての説明文を読み、〈A〉〈B〉の各問いに答えなさい。

表 3

	人口 (万人)	米 (%)	野菜 (%)	果実 (%)	花き (%)	工芸作物 (%)	畜産 (%)
ア	505	16.6	33.9	13.1	8.4	1.2	20.2
イ	109	4.6	19.0	3.7	2.0	1.2	66.4
ウ	162	3.5	10.9	2.1	2.4	6.1	66.6
エ	146	0.5	12.9	5.7	8.5	25.2	45.6

(2021 年 農林水産省 農業産出額構成割合より作成) (人口は「統計要覧 2021 年度版」より作成)

説明文

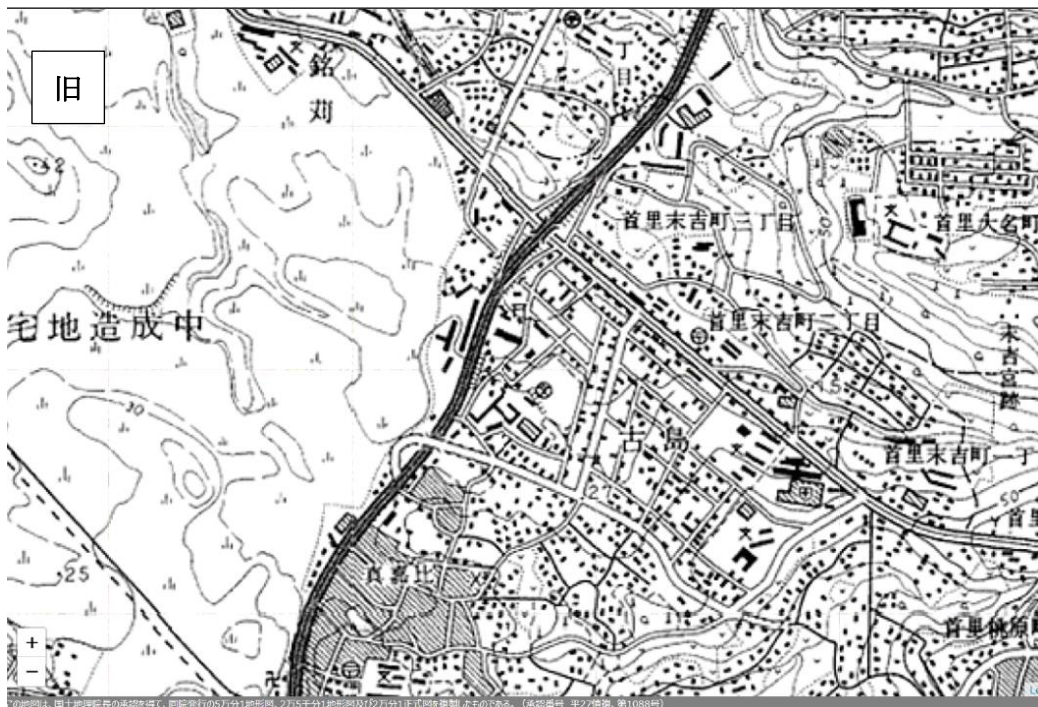
表 3 中のアは果実の生産がさかんで、イチゴの生産量が栃木県に次いで全国第 2 位である。表 3 中のイとウは畜産がさかんで、ウは豚の飼育頭数は全国第 1 位、イは全国第 2 位である。また、イは夏野菜のキュウリの生産量が全国第 1 位である。表 3 中のウとエの「工芸作物」にふくまれる農産物は、全国でもウとエだけで生産されている。

〈A〉ア～ウにあてはまる県名の正しい組み合わせを次の 1～6 の中から 1 つ選び、記号で答えなさい。

	ア	イ	ウ	エ
1	沖縄県	鹿児島県	宮崎県	福岡県
2	鹿児島県	宮崎県	福岡県	沖縄県
3	福岡県	沖縄県	鹿児島県	宮崎県
4	宮崎県	福岡県	沖縄県	鹿児島県
5	福岡県	宮崎県	鹿児島県	沖縄県
6	鹿児島県	沖縄県	福岡県	宮崎県

〈B〉説明文中の下線部「工芸作物」は砂糖の原料として使用されるほか、バイオエタノールの原料や家畜のえさなどとして利用されています。この農産物名を答えなさい。

(8) 下線部◎について，新旧の地形図を比較して読み取れる事柄について述べた文として誤っているものを次ページの1～4の中から1つ選び，記号で答えなさい。



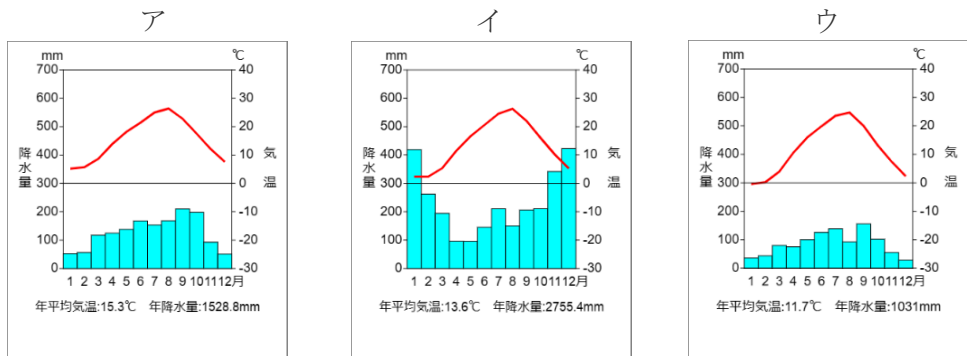
「今昔マップ on the web」1992年～1994年



「今昔マップ on the web」地理院地図

- 1 郵便局や病院，高等学校は新旧いずれの地図にもある。
- 2 沖縄都市モノレールが開通したことによって，交通手段が増えた。
- 3 現在の「銘苺」では，開発が進みかつての水田がみられなくなった。
- 4 宅地造成された地域に住宅地が建設され，学校，博物館，消防署などの施設が新たにつくられている。

(9) 下線部④の上越市は日本海に面する都市です。次の雨温図ア～ウ，説明 A～C は上越市（新潟県），東京，松本市（長野県）のいずれかをしめたものです。上越市の雨温図と気候の特徴を述べた文の正しい組み合わせを，次ページの 1～6 から 1 つ選び，記号で答えなさい。



(「理科年表 2019」より作成)

- A 北西の季節風が日本の山地にぶつかって雪を降らせるため，冬に降水量が多くなる。
- B 冬は季節風の風下になるため晴天の日が多く，夏は太平洋から吹く湿った季節風によって降水量が多くなる。
- C 海から離れているため季節風によって運ばれる水分が少なく，1年を通して降水量が少ない。

	雨温図	説明
1	ア	A
2	イ	B
3	ウ	C
4	イ	A
5	ウ	B
6	ア	C

(10) 下線部㉔について、次の1～3は宮城県・青森県・岩手県の伝統工芸品の写真です。岩手県の伝統工芸品として正しいものを1つ選び、記号で答えなさい。

1



つがるぬり  
津軽塗

2



せんだいたんす  
仙台箆笥

3



なんぶてつき  
南部鉄器





2 次の親子の会話文を読み、あとの各問いに答えなさい。

リツくん： お父さん、来年から新しい紙幣が発行されるそうだね。気になって検索したら、財務省のホームページに次のような表がのっていたんだ。

次の日本銀行券			現在の日本銀行券		
券種	肖像	裏	券種	肖像	裏
新一万円券	渋沢 栄一	東京駅	一万円券	福沢 諭吉	鳳凰像
新五千円券	津田 梅子	藤	五千円券	樋口 一葉	燕子花図
新千円券	北里 柴三郎	富嶽三十六景	千円券	野口 英世	富士山と桜

(財務省ホームページより作成)

お父さん： ㉔この表から気付くことがたくさんあるね。お父さんが子どもだったころは、現在の日本銀行券より一つ前のデザインだったな。当時の紙幣にはこの表の6人の中で一人だけ同じ人物が肖像として使われていたよ。

リツくん： 分かった、( ㉔ ) でしょ。有名な大学をつくった人物だよな。

お父さん： そうだよ。この人物は江戸時代の末期に武士として生き、明治時代以降には西洋の学問を広める文化人としても活躍したんだ。

リツくん： ㉔今までどのような人が肖像になったかを調べると、ぼくの知っている歴史上の人物もたくさん出てきたよ。日本のお札に初めて肖像が登場したのは1881年で、今までに最も多くお札の肖像に描かれた人物は㉔聖徳太子だということも分かったよ。

お父さん： よく調べたね。人類の歴史の中でも「お金」の歴史はとても興味深いんだ。㉔お金の出現が社会を発展させる力にもなったし、時にはお金によって社会が大きく混乱することもあったんだ。ちなみに日本で一番古いとされているお金は何か知っている？

リツくん： 708年に造られた和同開珎かな。( ㉔ ) を建設する費用として使われたんだよね。

お父さん： 確かにそのお金も古いけど、㉔天武天皇の時に造られたとされるお金が、国が発行した最も古いお金と考えられているんだ。



リツくん： ということは、それ以前の日本にはお金がなかったの？縄文時代や弥生時代とかはどうしていたんだろう。物々交換かな。

お父さん： 確かにそういうこともあったらうけど、古代で税として納められていた（⑩）など、長期間の保存が可能なものがお金の代わりとして利用されていたんだ。

リツくん： へえ。たしか⑪室町時代に始まった中国（明）との貿易では、お金がたくさん輸入されたと学校で習ったよ。

お父さん： よく知っているね。永楽通宝とよばれるお金が有名だね。実は⑫平安時代を最後にしばらく日本ではお金が造られなくなったんだ。その後、⑬豊臣秀吉が天正大判とよばれる、長さが 17cm ほどの世界最大級の金貨を造ったんだ。

リツくん： すごいや！昔の日本では金や銀がたくさん採れたんだね。そういえば、歴史の中でも⑭金が建築物に使われた例があったな。

お父さん： 金だけではなく、⑮銀の採掘跡が世界遺産にも登録されているよね。

リツくん： その後、日本のお金の歴史はどうなったの？

お父さん： 江戸時代に入ると、徳川家康が貨幣制度を統一し、再び国内でお金が造られるようになったんだ。でもお金の流通は、江戸幕府を苦しめる結果になって、⑯そうした財政難を立て直すために様々な改革が行われたんだ。

リツくん： なるほど。そして明治時代に入ると、最初に話した紙幣が登場するんだね。歴史がつながったね。

沖縄県でのお金の歴史を調べていたら、右の写真が出てきたよ。1972年に那覇で撮影されたと説明書きがあったんだけど、これは何を写したもののかな？



お父さん： これはね、（⑰）様子をうつした写真なんだ。

リツくん： ふーん。お金の歴史をたどっていけば、その時代の社会の様子なども分かるんだね。もっと調べてみよう！

(1) 下線部㊸について、この表から読み取ることができる情報として次の A～C の文が正しいなら「正」、誤っているなら「誤」と記した正誤表の組合せとして正しいものを、あとの 1～6 の中から 1 つ選び、記号で答えなさい。

- A 現在と次の紙幣とも、日本最高峰の山が描かれている。
- B 次に発行予定の紙幣では、初めて女性が肖像として採用される。
- C 現在と次の紙幣とも、医療の分野で活躍した日本人が描かれている。

	A	B	C
1	正	正	誤
2	正	誤	正
3	正	誤	誤
4	誤	正	正
5	誤	正	誤
6	誤	誤	正

(2) 会話文中 ( ㊹ ) に入る人物名を漢字で答えなさい。

(3) 下線部㊺について、次のカードはかつて肖像になった人物の一部をリツくんがまとめたメモです。これらの人物にあてはまらないものをあとの 1～4 の中から 1 つ選び、記号で答えなさい。

国会の開設をめざした運動の中心として活躍し、日本初となる全国的政党を設立した。

使節の代表としてアメリカやヨーロッパを訪問し、日本の近代化に大きな影響を与えた。

日本人の考え方を世界に紹介したり国際連盟事務次長を務めるなど国際社会で活躍した。

- 1 新渡戸稲造      2 夏目漱石      3 岩倉具視      4 板垣退助

(4) 下線部㉔の人物が活躍した時代より前の出来事を次の1～4の中から1つ選び、記号で答えなさい。

- 1 唐からの政治のしくみや進んだ文化を取り入れるため、遣唐使が派遣された。
- 2 中大兄皇子らが蘇我氏をたおし、天皇中心の国家づくりをすすめた。
- 3 かな文字が発達し、紀貫之らが編集した『古今和歌集』にも使われた。
- 4 ヤマト王権が中心となり、近畿地方に多くの前方後円墳がつくられた。

(5) 下線部㉕について、お金に関する歴史上の出来事として誤っているものを次の1～4の中から1つ選び、記号で答えなさい。

- 1 太平洋戦争に勝利した日本は、多額の賠償金を獲得した。
- 2 戦後の高度経済成長期に、所得倍増計画が打ち出された。
- 3 関東大震災による不景気などで、多くの銀行が倒産した。
- 4 原油価格が引き上げられたことで、オイルショックがおきた。

(6) 会話文中 ( ㉖ ) に入る語句として正しいものを次の1～4の中から1つ選び、記号で答えなさい。

- 1 新しい仏像      2 新しい城      3 新しい田地      4 新しい都

(7) 下線部㉗の説明として正しいものを次の1～4の中から1つ選び、記号で答えなさい。

- 1 仏教勢力が政治との結びつきを強めたため、都を平安京にうつした。
- 2 源氏の将軍がとだえたのをきっかけに、幕府をたおすための兵をあげた。
- 3 あとつぎをめぐる壬申の乱に勝利し、天皇を中心とする国家づくりをめざした。
- 4 仏教の力で国を守るため、東大寺や国ごとに国分寺などをつくらせた。

(8) 会話文中 ( ㊦ ) に入る語句として正しいものを次の 1～4 の中から 1 つ選び、記号で答えなさい。

- 1 米や布    2 野菜や布    3 米や土偶    4 野菜や土偶


(9) 下線部①に関して説明した次の A～D について、正しいものの組合せをあとの 1～4 から 1 つ選び、記号で答えなさい。

- A この貿易は平清盛によって始められた。  
B この貿易は足利義満によって始められた。  
C 鉄砲<sup>てつぽう</sup>などの新しい武器が日本にもたらされた。  
D 正式な貿易船かを確認するための合い札が使用された。

- 1 A・C    2 A・D    3 B・C    4 B・D

(10) 下線部①の様子を描いた絵として正しいものを次の 1～4 の中から 1 つ選び、記号で答えなさい。

1



2



3



4



(11) 下線部㊦に関して、次の1～4は日本の歴史の中で出された命令（法令）を分かりやすく書き改めたものです。㊦の人物が出した命令（法令）として正しいものを次の1～4の中から1つ選び、記号で答えなさい。

- 1 大名は、領国と江戸に交代で住むこと。また、500万石以上の船をつくってはいけない。
- 2 諸国の百姓が刀、脇ざし、弓、やり、鉄砲そのほか武具などを持つことを固く禁止する。
- 3 新たに開墾した土地の私有を許し、永久に公地として取り上げないこととする。
- 4 戦争時の国防目的のため、国の力を発揮できるように国家が人的・物的資源を統制し運用することができる。

(12) 下線部㊧について、次のA～Cはそれぞれ金を使用した歴史的建造物（復元も含む）です。これらの建造物が初めてつくられた時期を古い順から並べたものとして正しいものを、あとの1～6の中から1つ選び、記号で答えなさい。

A（鹿苑寺金閣）



B（黄金の茶室）




C（中尊寺金色堂）



- |         |         |         |
|---------|---------|---------|
| 1 A-B-C | 2 A-C-B | 3 B-A-C |
| 4 B-C-A | 5 C-A-B | 6 C-B-A |

(13) 下線部㊸について、次の資料はそれぞれ文化庁が発行する『日本の世界遺産パンフレット（英語版）』を一部加工したものです。㊸がしめす世界遺産に関するパンフレットとして正しいものを次の1～4の中から1つ選び、記号で答えなさい。

1




Photographer: Tsutomu Ikeda

**Hidden Christian Sites in the Nagasaki Region**

Property: 5,566.55 ha  
 Buffer Zone: 12,252.52 ha  
 Location: NAGASAKI and KUMAMOTO Prefecture  
 Inscribed: 2018  
 Criteria: (iii)

2




sources: JOMON ARCHIVES

**Jomon Prehistoric Sites in Northern Japan**

Property: 141.9 ha  
 Buffer Zone: 984.8 ha  
 Location: Hokkaido, Aomori, Iwate, and Akita Prefectures  
 Inscribed: 2021  
 Criteria: (iii) (v)

3



**Gusuku Sites and related properties of the Kingdom of Ryukyu**

Property: 55 ha  
 Buffer Zone: 560 ha  
 Location: OKINAWA Prefecture  
 Inscribed: 2000  
 Criteria: (ii) (iii) (vi)

4




Photo Courtesy of Shimane Prefecture

**The Iwami Ginzan Silver Mine and its Cultural Landscape**

Property: 529.17 ha  
 Buffer Zone: 3,134 ha  
 Location: SHIMANE Prefecture  
 Inscribed: 2007 (2010: minor boundary modifications)  
 Criteria: (ii) (iii) (v)

(14) 下線部㊸について、次の改革を行なった人物名を漢字で答えなさい。

庶民<sup>しよみん</sup>の意見を政治に反映させるために目安箱を設置するなど、  
享保の改革をおこなった。

(15) 会話文中（ ◎ ）に入る文として正しいものを次の1～4の中から1つ選び、  
記号で答えなさい。

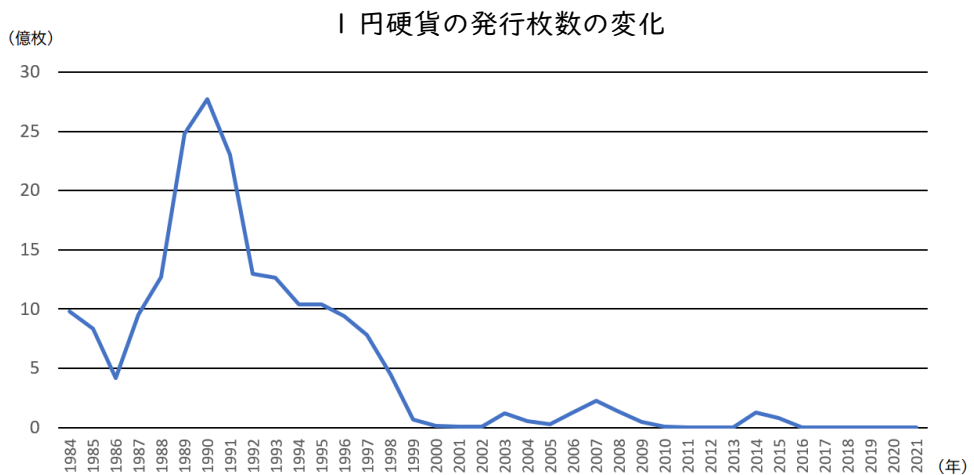
- 1 沖縄戦の終結に際して、今まで使われていたドルを日本円に交換<sup>こうかん</sup>している
- 2 沖縄戦の終結に際して、今まで使われていた日本円をドルに交換している
- 3 本土復帰に際して、今まで使われていたドルを日本円に交換している
- 4 本土復帰に際して、今まで使われていた日本円をドルに交換している

- (16) リツくんは「1円硬貨の発行枚数」を調べ、そこから社会の変化を考えようとしている。次のリツくんが作成したレポートを読み、( ① )に入る語句を答えなさい。また( ② )にはあなたの\*仮説を書きなさい。

### リツくんの作成したレポート

1989年から1991年にかけて1円硬貨の発行枚数は25億枚近くまで増えている。これは1989年に始まった( ① )の導入が関係している。グラフを見ると2000年以降は1円硬貨の発行枚数が最も多いときと比べ、少ない状態が続いている。

この理由は( ② )といった社会の変化が関係しているのではないかという\*仮説を立てた。



(独立行政法人造幣局ぞうへいききょくのデータより作成)

\*仮説…ある現象を合理的に説明するため、仮に立てる説。



③ 次のスピーチは 2012 年リオデジャネイロでの国際会議で、ウルグアイの元大統領ホセ・ムヒカ氏が語ったスピーチの一部抜粋です。これを読んで、あとの各問いに答えなさい。

わたしはみなさんに問いかけます。

① もしもインドの人たちが、ドイツの家庭と同じわりあい<sup>ばっすい</sup>で車を持ったら、この地球に何が起きるでしょう。わたしたちが息をするための酸素がどれだけ残るでしょう。もっとはっきり言います。

70 億や 80 億の全人類が、いままでぜいたくの限りをつくしてきた② 西洋社会と同じように、ものを買ったりむだづかいしたりできると思いますか。そんな原料が、いまの世界にあると思いますか。それともこの先いつか、わたしたちは別の種類の話し合いをしなくてはならないのでしょうか。

いまの文明は、わたしたちがつくったものです。わたしたちは、もっと便利でもっとよいものを手に入れようと、さまざまなものをつくってきました。おかげで、世の中はおどろくほど発展しました。

しかしそれによって、③ ものをたくさんつくって売ってお金をもうけ、もうけたお金でほしいものを買い、さらにもっとたくさんほしくなってもっと手に入れようとする、そんな社会を生み出しました。

いまや、④ ものを売り買いする場所は世界に広がりました。わたしたちは、できるだけ安く作って、できるだけ高く売るために、どの国のどこの人々を利用したらいいだろうかと、世界をながめるようになりました。

そんなしくみを、わたしたちはうまく使いこなしているのでしょうか。それとも、そんなしくみにおどらされているのでしょうか。人より豊かになるために、情けようしゃのない競争をくりひろげる世界にしながら、「心をひとつに、みんないっしょに」などという話ができるのでしょうか。だれもが持っているはずの、家族や友人や他人を思いやる気持ちは、どこへ行ってしまったのでしょうか。

( 中 略 )

あくことなくものを手に入れ、ものを作り続けることが、㊸いまの社会を動かしています。もしこの動きがストップしたら、明らかにお金の流れはストップします。お金の流れがストップしたら、㊹不景気という妖怪がひとりひとりをおそうでしょう。

しかし世界をおそっているのは、じつは欲深さの妖怪なのです。この欲深さを満足させるためにはもちの悪いものを作らなければなりません。たくさん売らなければならぬからです。

1 個の電球は 1000 時間以上使うと切れてしまいます。しかし 10 万時間も 20 万時間をもつ電球もあるのです。しかし、そういうものをつくってはいけないのです。なぜなら、電球をどんどん売らないといけないからです。働いて、ものを買って、使い捨てする、そんな文明でならなければいけないからです。このような悪循環の中に、わたしたちはいるのです。

さっきからわたしが、「生き方が危機におちいつている」と言っているのは、こうしたことです。いままでとはちがった文化をつくるために、たたかい始める必要があるのです。

( 中 略 )

古代の賢人エピクロスやセネカ、そしてアイマラ民族は、つぎのように言いました。「貧乏とは、少ししか持っていないことではなく、かぎりなく多くを必要とし、もっとももっととほしがることである」このことばは、人間にとって何が大切かを教えてくれています。

( 中 略 )

むかし㊺わが国の労働者は、長い時間働かされてきました。しかし㊻8 時間働けばよいとみとめさせるため、国や会社を相手にけんめいにたたかいました。そしていま、6 時間働くだけでよいことになりました。

しかし、6 時間働いている人は、もうひとつ仕事をしています。つまり、前よりも働いているというわけです。それはなぜでしょうか。なぜなら買った品物のローンをはらわないといけないからです。買ったバイクや買った車のローンを、はらってはらって、気がつけばわたしのようなりウマチもちの㊼老人になり、人生が終わっていくのです。

そしてひとりがこんな問いかけをするでしょう。

「これが人生のたどり着いた先なのか」と。

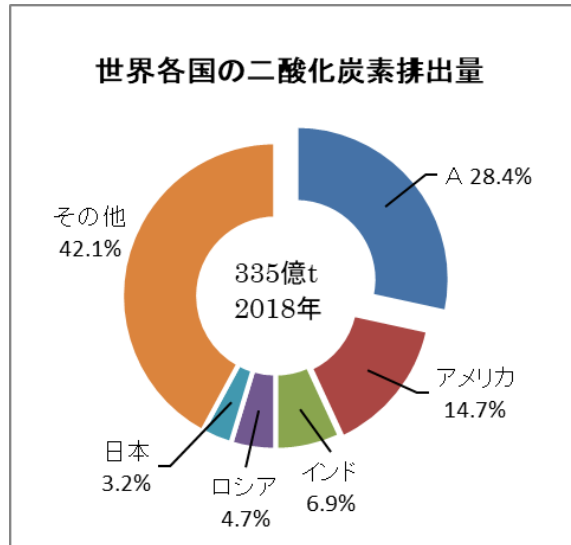
わたしが話していることは、とてもシンプルなことです。社会が発展することが、幸福をそこなうものであってはなりません。発展とは、人間の幸せの味方でなくてはならないのです。人と人が幸せな関係を結ぶこと、子どもを育てること、友人を持つこと、地球上に愛があること――

こうしたものは、人間が生きるためにぎりぎり必要な土台です。発展はこれらをつくることの味方でなくてはならない。なぜなら、幸せこそがもっとも大切な宝だからです。人類が幸福であってこそ、よりよい生活ができるのです。

わたしたちがよりよい生活をするためにたたかうとき、これをおぼえておかなくてはなりません。

( くさばよしみ編 『世界でいちばん貧しい大統領のスピーチ』より一部抜粋 )

(1) 下線部㉔に関連して、車から排出される二酸化炭素は地球温暖化の原因の一つとなっています。次の円グラフは、国別の二酸化炭素排出量をあらわしたものです。円グラフ中のAにあてはまる国名を、あとの1～4の中から1つ選び、記号で答えなさい。



(二宮書店 『データブック オブ・ザ・ワールド 2022』より作成)

- 1 ブラジル      2 メキシコ      3 韓国      4 中華人民共和国

(2) 下線部㉕では、国の政治の基本的なあり方をしめすものとして憲法の理念が生まれました。現在の日本国憲法には、柱となる三つの原則があります。次の条文を読んで、その三原則のうちのどれを表しているのか答えなさい。

第1条 天皇は、日本国の象徴であり日本国民統合の象徴であつて、この地位は、主権の存する日本国民の総意に基く

(3) 下線部㉓について、日本では個人の自由な経済活動が憲法で認められています。  
 日本のように個人が財産を持ち、利益を得ることができる経済のしくみを表す言葉として正しいものを次の1～4の中から1つ選び、記号で答えなさい。

- 1 社会主義      2 資本主義      3 共産主義      4 帝国主義

(4) 下線部㉔に関連して、世界の国々ではそれぞれ使っているお金が異なります。そのため、例えば私たち日本人がアメリカの商品を現金で買うときには、日本円をアメリカのドルと両替しなければなりません。そのとき日本のお金とアメリカのお金をいくらで交換するかの比率を為替レートといいます。次の説明のように為替レートが変化した場合、とにあてはまる数字の組み合わせとして正しいものを、あとの1～4の中から1つ選び、記号で答えなさい。

10,000 円のお小遣いでアメリカに旅行に行った場合

1 ドル=100 円の時      お小遣い 10,000 円 → 100 ドル と交換できる  
 1 ドル=80 円の時      お小遣い 10,000 円 → ドル と交換できる

1 台 30,000 円のゲーム機をアメリカに輸出した場合

1 ドル=100 円の時      ゲーム機 30,000 円 → 300 ドル で販売できる  
 1 ドル=150 円の時      ゲーム機 30,000 円 → ドル で販売できる

	A	B
1	80	400
2	80	200
3	125	400
4	125	200

(5) 下線部㉔に関連して、現在の日本に米軍基地がおかれているのは、日本がアメリカとある条約を結んだことによるものです。1951年に結ばれ、1960年に改定された条約として正しいものを次の1～4の中から1つ選び、記号で答えなさい。

- |                |            |
|----------------|------------|
| 1 サンフランシスコ講和条約 | 2 日米修好通商条約 |
| 3 琉米修好条約       | 4 日米安全保障条約 |

(6) 下線部㉕の状態になると、国民は生活に困り、政府への不満がたまります。そうになると、選挙によって新しいリーダーを求める世論がつくられていきます。現在は18歳から選挙権が与えられますが、私たち国民が投票をして直接選ぶことのできる人として誤っているものを次の1～4の中から1つ選び、記号で答えなさい。

- |       |          |         |      |
|-------|----------|---------|------|
| 1 県知事 | 2 内閣総理大臣 | 3 衆議院議員 | 4 市長 |
|-------|----------|---------|------|

(7) 下線部㉖に関連して、私たち日本国民はさまざまな権利が憲法によって保障されています。それとともに国民が守らなければならない義務についても憲法に定められています。「働くこと」は、日本国憲法においてどのように定められているか、答えとして正しいものを次の1～4の中から1つ選び、記号で答えなさい。

- |      |      |         |           |
|------|------|---------|-----------|
| 1 権利 | 2 義務 | 3 権利と義務 | 4 どちらでもない |
|------|------|---------|-----------|

(8) 下線部⑩のような闘たたかいは、お互いの意見や主張をぶつけ合う場としての裁判などによって行われます。裁判所は、三権分立の権限のひとつを担になう重要な機き関かんです。三権分立のしくみとして、次の図  ～  にあてはまる語句の組み合わせとして正しいものを、あとの 1～6 の中から 1 つ選び、記号で答えなさい。

国会 (  権 )



内閣 (  権 )

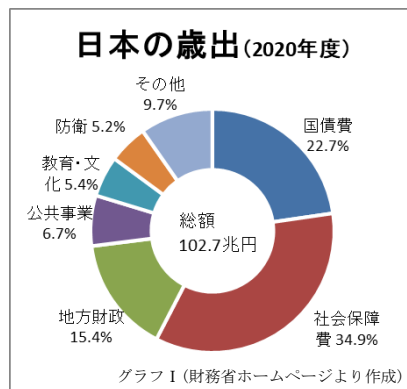


裁判所 (  権 )



	A	B	C
1	行政	立法	司法
2	行政	司法	立法
3	司法	立法	行政
4	司法	行政	立法
5	立法	司法	行政
6	立法	行政	司法

(9) 下線部①に関連して、日本では少子高齢社会がすすんでいます。そんな中でグラフ I のように、年金や医療費、介護保険費などの社会保障費が 1 番大きい割合をしめており、税金だけで負担するには限界がきています。そのため負担を世代間で広く分かちあっていくことが求められています。



そこで、所得を正確に把握<sup>はあく</sup>して、公平な給付と負担を実現することや、行政手続きの利便性を高める目的で、2016年より国民一人ひとりが次の図 I のような 12桁<sup>けた</sup>の番号をもつ X カードが導入されています。図 II の X にあてはまる語句をカタカナ 6 文字で答えなさい。

図 I



(大阪市ホームページより)

図 II



(デジタル庁ホームページより)



(10) 本文から読み取れる内容として適当でないものを次の1～4の中から1つ選び、記号で答えなさい。

- 1 私たちは、文明が発展することでおどろくほど便利になり、幸福になってきたので、さらなる発展をめざし、お金の流れを止めないで欲深さを満足させることが人類の幸福につながる。
- 2 私たちは、ものを長くは使えないように作ってそれを売り、ものを買っては使い捨てをくり返し、ローンを払うために働き続けなければならない悪循環の暮らしを送っている。
- 3 私たちは、経済の競争社会のしくみをつくったので、ある国ではぜいたくをして暮らしているが、その裏では利益を出すために、利用されている国があるという不公平な世界に暮らしている。
- 4 私たちは、限りある地球の資源をどんどんと使ってしまったので、このまますべての国々が発展をめざしていくなれば、ぜいたくをするための原料が足りなくなってしまうことが考えられる。

4 課題文を読み，作文を書きなさい。

( 解答らんは解答用紙裏面です )

課題

「幸福とはお金持ちになることだ」という意見があります。  
あなたはこの意見に賛成ですか，反対ですか。次の条件にしたがって書きなさい。

条件 1 文字数は 150 字以上，200 字以内とする。

条件 2 文章はいくつかの段落に分けて書くこと。その際，段落の頭で改行し，書き出しを 1 字下げて書くこと。

第一段落…賛成か反対か，問題のテーマについての立場を明らかにすること。

第二段落以降…その理由や理由を支える事実，経験などを書くこと。

条件 3 理由を述べる際は，必ず次の①・②のどちらかを使って書くこと。

①なぜなら～からです。たとえば～。

②理由は二つあります。一つは，～。もう一つは，～。(二点以上でもよい)